

2019年度入学試験問題

# 社 会

(35分)

第3回 2月4日実施

[注意] 解答はすべて解答用紙に記入しなさい。  
問題用紙も提出しなさい。

吉祥女子中学校

## 1

次の文章を読んで、後の問いに答えなさい。

火山活動がさかんな日本列島は、温泉資源に恵まれ、環境省の2018年度のデータによれば、3000以上の温泉地が存在する世界有数の温泉大国です。日本人の温泉好きは、世界的にも有名ですが、日本人はいつごろから温泉と関わりを持つようになったのでしょうか。

原始時代の日本と温泉との関わりはまだよく分かっていませんが、近年、ある考古学者が、①縄文時代の集落が河川や海から遠く離れた内陸部にも形成された要因の一つとして、温泉との関わりを指摘し、話題となりました。動物が温泉成分に含まれる塩分を求めて温泉に集まり、それを狩るために追ってきた人々によって、周辺に集落が形成された、とする興味深い説です。

温泉が日本の文献上で確認できるようになるのは、②奈良時代に編さんされた書物の中においてです。631年に③中大兄皇子の父にあたる舒明天皇が兵庫県の有馬温泉を訪れ、3ヵ月ほど滞在したという記録をはじめとして、これ以後、多くの天皇が各地の温泉を訪れる記事がさまざまな歴史書の中に現れます。また、④10世紀に成立した⑤『古今和歌集』の中には、藤原兼輔という貴族が温泉に療養に向かう途中で詠んだ歌が収められています。『竹取物語』には、かぐや姫に求婚し、結婚の条件として難しい課題を与えられた皇子が、それに対応するために、朝廷に九州の温泉に向かうと偽って休暇をとる、という場面が出てきます。

⑥鎌倉時代以降は、皇族や貴族だけでなく、武士が温泉に療養に出向く記録が現れてきます。大分県の別府温泉には御家人の大友頼泰によって温泉奉行という役人が置かれたり、元寇で傷ついた武士らが療養に來たりした、と伝えられています。戦国大名も温泉の効能に注目していたようで、武田信玄は⑦川中島の戦いで腕や足を負傷した際に、すぐに温泉に出向いて傷を治療しています。また、神奈川県の箱根温泉には、⑧豊臣秀吉が1590年に北条氏の小田原城を攻めた際につくらせたと伝えられる岩風呂の跡が残されています。

⑨江戸幕府は、徳川家康の時代以来、将軍への献上湯として、静岡県の熱海温泉などからくみ出した湯を樽につめて、江戸城まで運ばせていました。⑩8代将軍の時代には9年間で3643樽も運ばれたという記録が残されています。江戸時代にはさまざまな学問の発展を背景に、温泉の効能について、成分に注目した研究がなされるようになりました。19世紀前半の⑪蘭学者の宇田川榕庵は、熱海温泉・有馬温泉をはじめとする各地の温泉水を取り寄せて、化学的な分析を行いました。

明治時代になると、西洋の学問を導入するために招かれた外国人の学者も温泉に注目しました。東京医学校（現在の東京大学医学部）の教師として⑫ドイツから招かれた医学者の⑬ベルツは、日本各地の温泉をめぐり、西洋医学の観点から温泉治療の有

効性を説きました。特に⑩群馬県の草津温泉を高く評価し、その研究成果を世界に紹介したため、草津温泉は世界的に広く知られるようになりました。ベルツは、現在でも「草津の恩人」として尊敬され、町内には「ベルツ記念館」が設立されています。

明治時代後半から昭和時代までくりかえされた戦争の中では、温泉は戦争の負傷者を療養する施設として利用されることが多くなり、陸軍や海軍の温泉療養所が各地の温泉地に設置されていきました。戦後をむかえ、⑪1950年代からオイルショックまでの経済成長の時代には、温泉旅行ブームが起これ、全国の温泉の年間宿泊者数も年々増加し、1968年にはついに1億人を突破しました。以後、多少の増減はあるものの、近年は1億3千万人前後で推移しており、21世紀の現代においても私たちは温泉と深い関わりを持っていると言えます。

問1 下線部①に関連するできごとについて述べた文として正しいものを次のア～エから一つ選び、記号で答えなさい。

- ア 円筒形のものや、人物・動物・家・船などをかたどった埴輪がさかんにつくられた。
- イ 豊かな実りなどを祈る祭りの祭器として、銅とすずの合金の青銅を用いて、剣や鏡などがさかんにつくられた。
- ウ 祈りをささげたり、儀式などに用いられたと考えられている土偶がさかんにつくられた。
- エ 煮炊きや盛りつけ、保存などに用いるために、文様が少なく薄くて丈夫な赤褐色の土器がさかんにつくられた。

問2 下線部②について述べた文として正しくないものを次のア～エから一つ選び、記号で答えなさい。

- ア 神話の時代から推古天皇までの歴史を太安万侶がまとめた『古事記』が完成した。
- イ 神話の時代から持統天皇までの歴史を舎人親王らがまとめた『日本書紀』が完成した。
- ウ 朝廷は国ごとに地名の由来や産物・伝承などをまとめた『風土記』を作成するように命じた。
- エ 朝廷は7世紀後半以降の優れた和歌を集めた最古の和歌集である『万葉集』の編さんを命じた。

問3 下線部③とともに、蘇我蝦夷・入鹿父子を滅ぼす事件で中心的な役割を果たした人物の、事件当時の名前を漢字で答えなさい。

問4 下線部④のできごとについて述べた文として正しいものを次のア～エから一つ選び、記号で答えなさい。

ア 7世紀からくりかえされてきた遣唐使の派遣が、菅原道真の提案を受けて、停止されることになった。

イ 白河天皇は、位を若い息子にゆずった後、院において政治をとり続ける院政を始めた。

ウ 桓武平氏の平将門が東国で反乱を起こし、関東一帯を占領して、自ら新皇と名のつた。

エ 貴族の間で阿弥陀堂を建てるのが流行する中で、藤原頼通は宇治に平等院鳳凰堂を建設した。

問5 下線部⑤が始まった年について、かつては1192年と考えるのが一般的でしたが、近年は守護・地頭が設置された1185年と考える説も有力になっています。守護・地頭を設置したことが、なぜ鎌倉時代の始まりと考えられるのですか。その理由を1行で説明しなさい。

問6 下線部⑥に関連するできごとについて述べた文として正しくないものを次のア～エから一つ選び、記号で答えなさい。

ア 全国統一後はキリスト教を禁止していたが、のちに貿易を優先するために、積極的に保護するようになった。

イ 百姓から刀や鉄砲などの武器を取り上げる刀狩を行って、農業に専念させ、兵農分離を進めた。

ウ 全国にわたって統一的な基準で検地を行い、耕地の面積や耕作者を調べ、その結果を検地帳に記録した。

エ 肥前国（現在の佐賀県）に築いた名護屋城を拠点に、二度にわたって朝鮮半島に大軍を派遣した。

問7 下線部⑦の政策について述べた次のA～Cの文を時期の古いものから順に並べかえるとどうなりますか。正しいものを後のア～カから一つ選び、記号で答えなさい。

- A 商工業者の組合である株仲間を積極的に奨励し、独占的な販売を認める見返りに税を徴収した。
- B 大名から石高1万石につき米100石を差し出させ、その代わりに参勤交代の江戸滞在期間を半減した。
- C 朱子学を幕府の正学と定め、幕府の学問所においては、朱子学以外の講義を禁止した。

- ア A→B→C                      イ A→C→B                      ウ B→A→C  
エ B→C→A                      オ C→A→B                      カ C→B→A

問8 下線部⑧について、杉田玄白とともに『ターヘル＝アナトミア』の翻訳作業において中心的な役割を果たした人物を漢字で答えなさい。

問9 下線部⑨と日本に関連するできごとについて述べた次のA～Cの文を時期の古いものから順に並べかえるとどうなりますか。正しいものを後のア～カから一つ選び、記号で答えなさい。

- A ドイツはロシア・フランスとともに、日本が遼東半島を領有することに反対する干渉を行った。
- B 日本はフランス領のインドシナ北部を占領した直後に、ドイツとイタリアと三国同盟を結んだ。
- C 日本はドイツに宣戦布告し、カロリン諸島やマーシャル諸島などの太平洋のドイツ領南洋諸島を占領した。

- ア A→B→C                      イ A→C→B                      ウ B→A→C  
エ B→C→A                      オ C→A→B                      カ C→B→A

問10 下線部⑩に関連するできごとについて述べた文のうち、正しいものの組み合わせを後のア～カから一つ選び、記号で答えなさい。

- A この県の岩宿遺跡の発見によって、日本にも旧石器時代があったことが明らかになった。
- B この県ではかつて一向宗の信者が守護大名を倒して、100年近く信者による自治が行われた。
- C この県に官営工場として建設された富岡製糸場では、近代的な技術で生糸の生産が行われた。
- D この県にある足尾銅山から流出した鉱毒による被害について、その実態を衆議院議員の田中正造が天皇へ直訴した。

- ア AとB                      イ AとC                      ウ AとD
- エ BとC                      オ BとD                      カ CとD

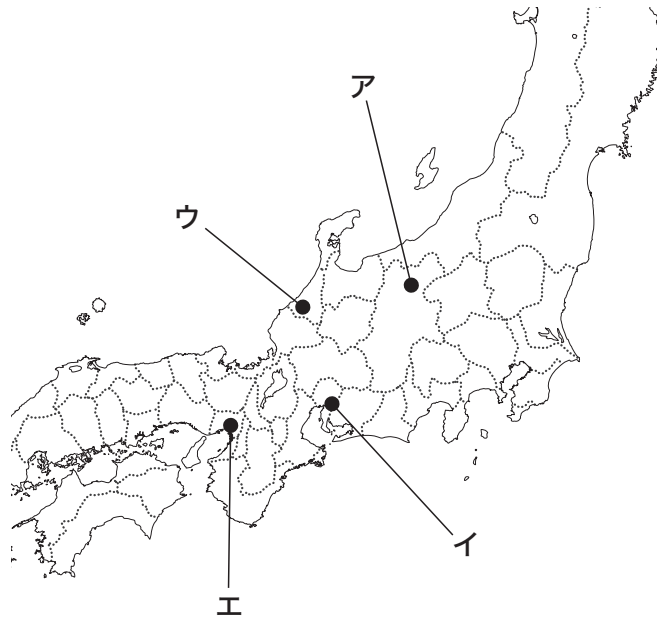
問11 下線部⑪のできごとについて述べた文として正しくないものを次のア～エから一つ選び、記号で答えなさい。

- ア 田中角栄内閣のとき、中華人民共和国との間で日中平和友好条約が結ばれて、国交が正常化された。
- イ 佐藤栄作内閣のとき、大韓民国との間で日韓基本条約が結ばれて、国交が開かれた。
- ウ 吉田茂内閣のとき、アメリカとの間で日米安全保障条約が結ばれて、アメリカ軍の日本国内の駐留が決められた。
- エ 鳩山一郎内閣のとき、日本の国際連合への加盟が認められ、国際社会への復帰がはたされた。

問12 波線部⑫の編さんにあたった人物として正しいものを次のア～エから一つ選び、記号で答えなさい。

- ア 阿倍仲麻呂              イ 山上憶良              ウ 藤原定家              エ 紀貫之

問13 波線部㊸の行われた場所として正しいものを次の地図中のア～エから一つ選び、記号で答えなさい。



※境界は、旧国の国境を示します。

問14 波線部㊸は初めて御三家から将軍に就任した人物です。この人物の出身の藩として正しいものを次のア～エから一つ選び、記号で答えなさい。

ア 水戸藩      イ 駿府藩      ウ 尾張藩      エ 紀伊藩

問15 波線部㊸が日本滞在中に記した日記は、明治時代の重要な史料となっています。この日記から引用した次の文章（要約）が書かれた年として正しいものを後のア～エから一つ選び、記号で答えなさい。

二月九日 東京は十一日の憲法発布をひかえてその準備で大騒ぎおおさわとなっている。……だが、こっけいなことには誰も憲法の内容を知らないだれのである。

ア 1885年      イ 1889年      ウ 1890年      エ 1894年

2

次の文章を読んで、後の問いに答えなさい。

日本の国土は南北に長く、約  度の緯度の差があり、北海道から沖縄までさまざまな気候が見られます。また、日本には、多様な気候だけでなく変化に富んだ地形もあります。日本の各地域には、そうした気候や地形にあわせた生活や産業の姿が見られます。

北海道では、冬になるときびしい寒さの日が続きます。特に気温が低い冬のオホーツク海沿岸では  が押し寄せてくる現象が見られます。しかし、暖房設備が整っている家が多いため、冬でも部屋の中の温度は高く、薄着で過ごす人が多いと言われます。②北海道では、寒冷的な気候を克服しながら農業用地の開発が進み、今では全国有数の農業生産高をほこっています。また、③豊かな鉱物資源・森林資源を利用した鉱工業も行われてきました。

一方の沖縄県は、とても暑いというイメージを持っている人もいますが、④夏の気温が特別高いわけではありません。暖かい季節が長く続くのが特徴で、4月から11月にかけてクールビズの一種である「かりゆしウェア」の着用が官公庁などで行われています。また、台風の影響などで④降水量が多いことも特徴の一つですが、河川が短いこともあり水不足にも悩まされてきました。そのため、⑤台風や水不足にそなえるさまざまな工夫をしている家が見られます。⑥暖かな気候を利用した農業や観光が沖縄の人々の生活を支えていますが、工業はあまり発達していません。

さて、⑦日本は全体として山がちな地形ですが、山間部は交通の便が悪く、⑧林業や観光以外に目立った産業はありません。豪雪や土砂崩れなどの災害時には孤立する集落もあるため、戦後は人口の流出が続きました。その後、高速道路の普及にともない、⑨高原などで大都市向けに野菜の栽培を行う農家が現れてきました。こうした変化の中で山間部の生活も少しずつ便利になってきていますが、各地で高齢化や過疎化の動きが止まらないのが現状です。

一方、国土の3割にも満たない台地や低地では、多くの人々が生活しています。なかでも河川付近に広がる低地は稲作などの農業に適しているため、昔から人口が集中していました。ただし、浸水被害を受けることが多く、その対策として堤防の建設などが行われてきました。また、明治時代以降、⑩太平洋や瀬戸内海の沿岸部には多くの工業都市が発達しました。それらを結ぶ⑪鉄道網や道路網が発達し、多くの都市が带状のまとまりを形成していきます。東京から大阪にかけての都市の連なりは、特に「東海道メガロポリス」と呼ばれています。それらの大都市には、製造業だけでなく、サービス業や教育機関、娯楽施設などが集まり、生活の便利さは増していきました。しかし、⑫都市の過密化が進むにつれて、そこでの生活には不便なところも生じています。公害や⑬都市型水害などは、その一例と言えます。

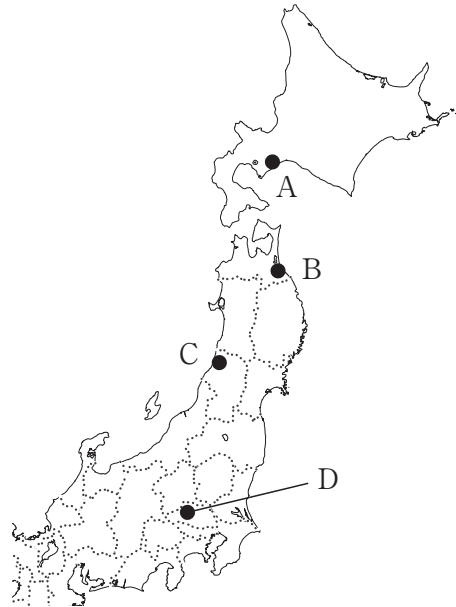


問1 空らん ① にあてはまる語句を漢字2字で答えなさい。

問2 下線部②について述べた文として正しいものを次のア～エから一つ選び、記号で答えなさい。

- ア 石狩平野などでは、寒さに強い稲をつくるため品種改良が行われてきた。そのため、米の生産で北海道は秋田県に次ぐ2位となっている。
- イ 十勝平野などでは、寒さで収穫量が減ることを防ぐため輪作が行われてきた。そのため、大豆やじゃがいもの生産で北海道は日本一となっている。
- ウ 根釧台地などでは、寒さに強いホルスタインという種類の乳牛を中心に酪農が行われてきた。そのため、乳牛の飼育頭数で北海道は日本一となっている。
- エ 上川盆地などでは、寒さでできた泥炭地に客土をほどこし、果樹栽培が行われてきた。そのため、りんごの生産で北海道は青森県に次ぐ2位となっている。

問3 下線部③に関連して、次の地図中のA～Dの都市周辺で産出される鉱物資源・森林資源とそれを利用した工業製品の組み合わせとして正しいものを後のア～エから一つ選び、記号で答えなさい。



	都市	資源	工業製品
ア	A	広葉樹林	紙・パルプ
イ	B	鉄鉱石	鉄鋼
ウ	C	原油	石油化学製品
エ	D	石灰石	セメント

問4 下線部④に関連して、海からの湿<sup>しめ</sup>った風が1500mをこえる山々につぶつかり、たびたび大量の雨を降らせるため、「月に35日雨が降る」と言われる島があります。島にはすぎの原生林など貴重な自然が残されており、その一部は世界自然遺産にも登録されています。この島を何と言いますか。漢字で答えなさい。

問5 下線部⑤にあてはまる沖縄県の家の写真として正しいものを次のア～エから一つ選び、記号で答えなさい。

ア



イ



ウ



エ



問6 下線部⑥に関連して、暖かい気候に適する作物について述べた文として**正しくないもの**を次のア～エから一つ選び、記号で答えなさい。

ア パイナップルは、主に沖縄県で栽培されてきたが、最近はやい外国産パイナップルの輸入が進み、生産量が減少している。

イ ピーマンやなすは、冬でも温暖な宮崎平野や高知平野などの露地で促成栽培が行われている。

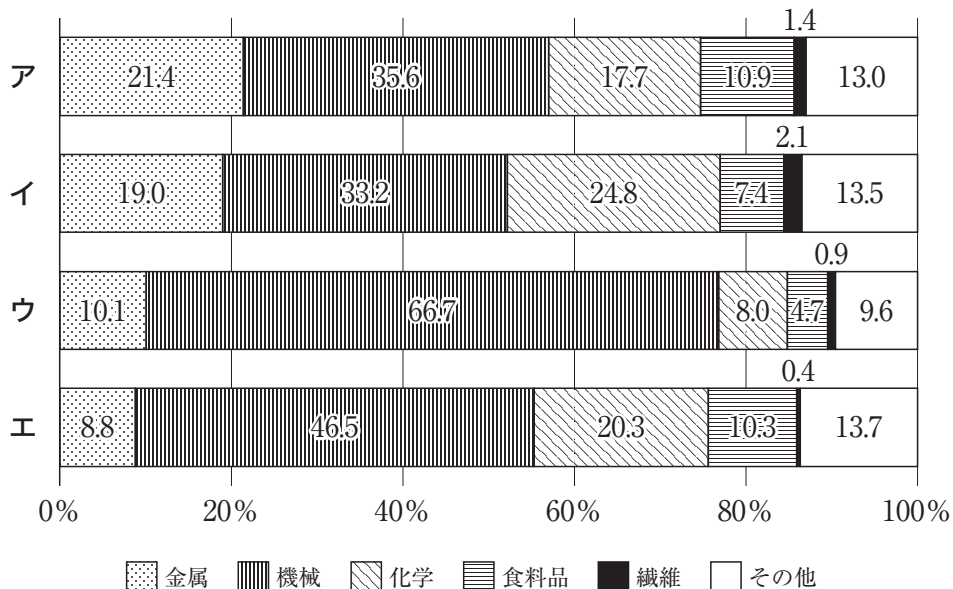
ウ みかんは、静岡県・和歌山県・愛媛県などで生産されているが、最近は消費量の減少が進んでいる。

エ 茶は、静岡県の生産量をもっとも多いが、鹿児島県産の茶をもっとも早く出荷される。

問7 下線部⑦について、日本の国土が山がちなのは、北アメリカのロッキー山脈、南アメリカのアンデス山脈と同じ、ひかくてき比較的新しい造山帯に属しているからです。この造山帯を何と言いますか。解答らん<sup>らん</sup>に合うように漢字で答えなさい。

問8 下線部⑧について、次のグラフの**ア～エ**は京浜工業地帯・中京工業地帯・阪神工業地帯・瀬戸内工業地域の製造品出荷額等の構成(2014年)を示したものです。そのうち、瀬戸内工業地域のグラフとして正しいものを**ア～エ**から一つ選び、記号で答えなさい。

(単位：%)



(『日本国勢図会2017/18年版』より作成)

問9 下線部⑨に関連して、次の表は都道府県別鉄道営業路線の営業キロ数(2013年)を示したものです。表中のA・Bにあてはまる都道府県の組み合わせとして正しいものを後のア～エから一つ選び、記号で答えなさい。

(単位：km)

	新幹線 <sup>※1</sup>	JR在来線	その他 <sup>※2</sup>	合計	人口1万人あたり	面積100km <sup>2</sup> あたり
A	185.9	647.9	189.6	1023.4	7.9	6.7
B	28.9	208.2	526.7	763.7	0.9	40.2
全国平均	55.0	370.1	158.8	583.9	2.2	7.4

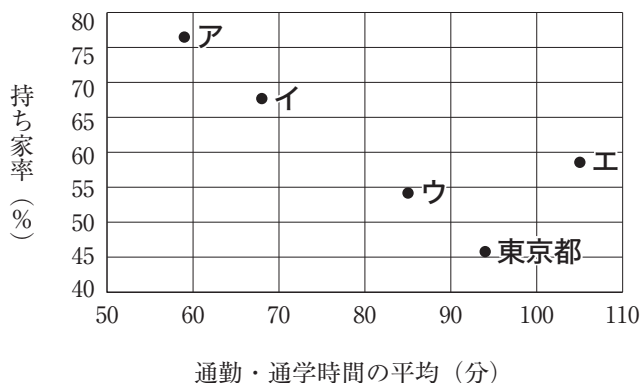
※1 JR在来線と同じ線路を使用している場合は含まない。

※2 私鉄、地下鉄、路面電車、モノレールなど。

(「平成24・25年版 地域交通年報」等より作成)

	A	B
ア	岩手県	大阪府
イ	岩手県	千葉県
ウ	愛知県	大阪府
エ	愛知県	千葉県

問10 下線部⑩に関連して、都市の過密化が進むと、都市中心部で地価が上昇して家を持つことが難しくなり、自宅と職場が遠くなる傾向が生まれます。次のグラフは、大阪府・神奈川県・静岡県・東京都・福井県における通勤・通学時間の平均<sup>※1</sup>(2016年)と持ち家率<sup>※2</sup>(2013年)の関係を示したものです。たとえば、このグラフからは東京都の通勤・通学時間の平均は約95分、持ち家率は約45%であることがわかります。このうち神奈川県にあてはまるものとして正しいものを次のア～エから一つ選び、記号で答えなさい。



※1 10歳以上の通勤・通学者の平日1日あたりの平均。

※2 居住する世帯がいる住宅数に対する持ち家の割合。

通勤・通学時間の平均 (分)

(「平成28年社会生活基本調査」「平成25年住宅・土地統計調査」より作成)

問11 下線部⑪について、都市部で短時間に大量の雨が降ると、河川の水があふれたり、道路が冠水<sup>かんすい</sup>するなどの被害が農村部に比べて起こりやすいと言われます。都市部の地表が主にどんな素材におおわれているかに触れて、都市型水害が起こる理由を1行で説明しなさい。

問12 空らん  にあてはまる数字としてもっとも適当なものを次のア～エから一つ選び、記号で答えなさい。

- ア 15            イ 20            ウ 25            エ 30

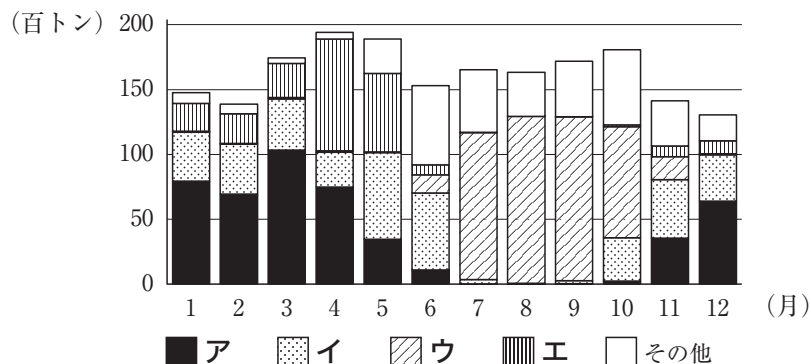
問13 波線部⑫に関連して、2018年の夏は全国的に猛暑<sup>もうしょ</sup>におそわれ、7月23日にそれまでの観測史上最高<sup>こうしん</sup>を更新する41.1度が観測されました。その観測地点がある都道府県として正しいものを次のア～エから一つ選び、記号で答えなさい。

- ア 埼玉県            イ 群馬県            ウ 岐阜県            エ 高知県

問14 波線部⑬に関連して、日本の林業の現状について述べた文として正しいものを次のア～エから一つ選び、記号で答えなさい。

- ア 日本の国土の7割以上を森林が占めている。  
 イ 日本の森林のうち、人工林は天然林の半分に満たない。  
 ウ 日本で使用されている木材の6割以上は、海外からの輸入に頼っている。  
 エ 最近<sup>かんぱつざい</sup>は間伐材を使った発電に注目が集まり、林業従事者が増え続けている。

問15 波線部⑭について、次のグラフは高原野菜の一つであるキャベツの、東京都中央卸売市場への月別産地別出荷量（2017年）を示したものです。グラフ中のア～エは東京都への出荷量第4位までの愛知県、神奈川県、群馬県、千葉県の出荷量を示しています。このうち群馬県にあてはまるものとして正しいものを次のア～エから一つ選び、記号で答えなさい。



(東京都中央卸売市場ホームページより作成)

## 3

次の会話文は中学生の吉子さんと祥子さんが昨年7月に話した内容です。  
これを読んで、後の問いに答えなさい。

吉子：この前、①国会で候補者男女均等法が成立したけど、候補者の数を男女同じにするように、政党に「努力を求める」だけで義務じゃないらしいよ。本当に効果があるのかな。

祥子：分からないけど、次の②選挙からは、女性候補者がどのくらいいるかが、投票する政党を選ぶ基準の一つにはなると思う。この制度は、男性に対する差別だという批判もあるよ。

吉子：私はちがうと思うな。憲法で男女平等が明記されてから70年以上たっているのに女性の議員も候補者も少ないままなんだよ。社会的な男女の力関係があるからだと思う。外国には一定の議席を女性に割りあてたり、③政治家が産休をとっていたり、日本よりはるかに女性が政治の場で活躍しやすい国があるのよね。④法律上の権利が平等になっても、結果が平等になるとは限らないんだよね。

祥子：でも、男性から見たら男女同数の規定は逆に不公平に感じるかもしれない。政治家を目指す女性は男性よりまだずっと少ないのに、候補者の半数が女性になるんだよ。やっぱり女性が優遇されていると思うんじゃないかな。フランスでは、候補者を男女同数にすることを政党に義務づける法律をつくらうとしたときに、⑤裁判所が違憲判決を出したことがあるんだって。

吉子：でもフランスは憲法を改正してその法律を成立させたよ。

祥子：何が公平で何が不公平なのか、難しい問題だね。

吉子：選挙の公平性と言えば、今回の国会では、参議院議員の選挙制度も変わったよね。1票の格差を縮小するための変更なんだって。

祥子：前回の参議院議員選挙では、⑥住んでいる地域によって1票の格差が最大で3倍以上開いていたんだよ。それで次回からは、人口の多い都市部の議席が増えるんだよね。

吉子：1票の格差は縮まるけど、人口が少ない地方の人たちから見れば、都市部ばかり代表をたくさん選べて不公平だと思うのかな。

祥子：でも、国の⑦である憲法に平等権が明記されている以上、1票の格差は許されないと思うよ。

吉子：人口が少ない地方では、税収が少ない上に代表も少ないなんて、自分が地方に住んでいたらやっぱり不公平だと感じるような気がする。

祥子：私は、1票の価値に差があることの方が嫌だな。⑧地方の税収の格差を小さくする方策はいろいろあるし、その努力は今後も必要だけど、選挙の平等は守っ

てほしい。

吉子：なるほどね。都市と地方のちがいはなくならないから、格差があるのは仕方ないのかもしれない。

祥子：それを言ったら、⑧個人間の格差だってなくなることはないし、ある程度の差はあるのがあたり前だと思う。大リーグの選手がすごい年俵ねんぼうをもらっていても不公平だなんて思わないよ。

吉子：大金持ちがいるのは別にいいけど、すごく貧しい人がいるのは問題だよ。そのために⑥社会保障制度があるんだけど、十分なのかな。努力しても貧しいままだったり、努力もできない状況じょうきょうの人がいるとしたら、その格差は不公平だと思うよ。

祥子：社会的に不利な立場の人にとっても受け入れられる格差なら、あってもいいのかもしれない。何が公平で何が不公平なのか、考え方はいろいろあるけど、みんな意見を言い合ってよりよい社会にしていきたいね。

問1 下線部①について述べた文として正しいものを次のア～エから一つ選び、記号で答えなさい。

- ア 国会に提出された法律案はまず公聴会しんぎで審議され、公聴会で可決したら本会議で審議、議決される。
- イ 条約の承認について衆議院と参議院の議決が異なった場合、衆議院で出席議員の3分の2以上で再可決すると衆議院の議決が国会の議決となる。
- ウ 衆議院と参議院の議決が異なった場合、通常たうじゆんの法律案なら両院協議会を開かないこともある。
- エ 通常国会は毎年1回、4月に召集かいさいされることになっているが、臨時国会の開催回数や時期は決まっていない。

問2 下線部②に関連して、日本の選挙について述べた文として正しいものを次のア～エから一つ選び、記号で答えなさい。

- ア 衆議院議員選挙はすべての議席を改選するため総選挙と呼ばれ、衆議院の現在の定数は248議席である。
- イ 衆議院議員選挙では、小選挙区制で選出される議員よりも比例代表制で選出される議員の方が多い。
- ウ すべての選挙で投票は無記名で行われ、投票した候補者や政党を他人に知られないことが保障されており、このような選挙を普通選挙という。
- エ 参議院議員選挙には、一つの選挙区から一人もしくは二人以上が当選する選挙区制と、比例代表制がある。

問3 下線部③について、平等という考え方には、すべての人を等しく扱う形式的平等と、境遇に応じて異なる扱いをすることで結果の平等を目指す実質的平等があります。このうち日本で行っている実質的平等をおし進める方法として正しいものを次のア～エから一つ選び、記号で答えなさい。

- ア すべての国民から平等に税を徴収するために、消費税は現在、すべての品目に一定の率で課されている。
- イ すべての子どもが健やかに成長できるように、所得が一定以下のひとり親などの家庭に対して児童扶養手当が支給されている。
- ウ 外国人には、国会議員選挙でも地方の議会や首長の選挙でも立候補や投票をする権利が認められていないが、納税の義務もない。
- エ 職業選択の自由は一般に保障されているが、自衛官は内閣総理大臣になることができない。

問4 下線部④に関連して、日本の裁判所について述べた文として正しいものを次のア～エから一つ選び、記号で答えなさい。

- ア 裁判官は憲法と法律にのみ拘束され、自己の良心に従って独立して職権を行わなければならない。
- イ 日本の裁判所は最高裁判所と下級裁判所のほかに、法律や命令などの憲法違反を審査する専門の憲法裁判所がある。
- ウ 簡易裁判所は全国50カ所にあり、家庭内のもめごとの調停や少年犯罪の審判などを専門に行う。
- エ 裁判員裁判では、裁判員が裁判官と一緒に被告人が有罪か無罪かを決めるが、どのような刑罰を与えるかの決定に裁判員は参加しない。

問5 下線部⑤に関連して、地方自治体に関する制度について述べた文として正しいものを次のア～エから一つ選び、記号で答えなさい。

- ア 首長の任期は4年で、都道府県知事も市町村長も被選挙権を持つのは30歳以上である。
- イ 首長は議会の議決に対して拒否権を持つが、議会が出席議員の3分の2以上の賛成で再可決すれば首長は再び拒否することはできない。
- ウ 市町村と都道府県の政策が対立した場合、都道府県知事は市町村議会を解散することができる。
- エ 住民が監査を請求する際には、有権者数の3分の1以上の署名を集めて監査委員に提出する必要がある。



問6 空らん  には、国内で一番強い効力を持つ法という意味の語句が入ります。この語句を漢字4字で答えなさい。

問7 下線部⑦を意図してつくった制度の一つに、納税者が自分で選んだ地方自治体に寄付をして、住んでいる自治体に納める税が一部免除される制度があります。この制度は一般的に何と呼ばれているかを答えなさい。

問8 下線部⑧を広げている原因の一つが、パートタイマーやアルバイトなどの不安定な立場で働く人たちの増加です。このような雇われ方を何と言いますか。漢字5字で答えなさい。

問9 波線部⑨について、ある国では首相が2018年6月に出産して6週間の産後休業をとりました。この国として正しいものを次のア～エから一つ選び、記号で答えなさい。

ア 韓国      イ イギリス      ウ ドイツ      エ ニュージーランド

問10 波線部⑩について、日本の社会保障制度の内容として正しいものを次のア～エから一つ選び、記号で答えなさい。

- ア 障害者が仕事に就くための支援サービスは公的扶助に含まれる。
- イ 仕事上のけがに対しては、雇用保険から給付を受けることができる。
- ウ 国民年金の財源の中心は、国庫負担と今の働く世代が支払う保険料である。
- エ 介護保険は国が運営しており、サービスの内容は全国どこでも同じである。

問題は以上です

# 2019年度 入学試験解答用紙〔社会〕(35分)

第3回 2月4日実施  
吉祥女子中学校

1	問1	問2	問3	問4
	問5			
	問6	問7	問8	問9
	問10			
	問11			
	問12			
	問13	問14	問15	
	問16			
	問17			
	問18			
	問19			
	問20			
	問21			
	問22			

2	問1	問2	問3	問4	問5
	問6				
	問7	問8	問9	問10	
	造山帯				
	問11				
	問12				
	問13	問14	問15		
	問16				
	問17				
	問18				
	問19				
	問20				
	問21				
	問22				

3	問1	問2	問3	問4	問5
	問6				
	問7				
	問8				
	問9				
	問10				
	問11				
	問12				
	問13				
	問14				
	問15				
	問16				
	問17				
	問18				

受験番号	氏名

得点