

2020年度入学試験問題

社 会

(35分)

第3回 2月4日実施

[注意] 解答はすべて解答用紙に記入しなさい。
問題用紙も提出しなさい。

吉祥女子中学校

1

次の文章を読んで、後の問いに答えなさい。

各地の名産品や工芸品などの名前には、①伊予かんや②薩摩いも、備前焼など、都道府県名ではなく旧国名が使われているものが多く見られます。

旧国名がいつごろから使われはじめ、またその国名の由来が何か、はっきりとしたことはわかっていませんが、③大宝律令の制定により律令国家が整備されたときに、58の国が定められたとされています。そしてこのころから、国名は2字で統一されていき、例えば「牟邪志」や「牟射志」などと記されていた地は④「武蔵」、「以波美」などと記されていた地は⑤「石見」とすることになりました。

また、各国の人口をできる限り均等にするために、大きな国は二つあるいは三つに分割されました。そして、都を含む⑥「畿内」と呼ばれる地域からの距離に応じて、上・下という文字や、近・遠、前・中・後という文字を含んだ名前がつけられました。例えば、日本海側の「越国（高志国）」は三つに分けられると、右ページの地図にあるように、畿内に近い方から越前国・越中国・越後国と呼ばれました。また、⑦九州地方の「筑紫国」は筑前国と筑後国に分けられました。ただし、「総国」と呼ばれていた房総半島については、二つに分割されたときに、畿内から陸路で向かおうとすると近い距離にある北側が「下総国」、遠い南側は「上総国」とされました。これは、8世紀半ばすぎまで、三浦半島から房総半島へは船で向かうのが一般的で、南側の方が畿内から近くなるためでした。

都の近くにある比較的大きな湖にちなんで名づけられた国もあります。当時ともに淡水湖であった琵琶湖と浜名湖を比べると、畿内に近い琵琶湖は「近淡海」、畿内から遠い浜名湖は「遠淡海」と呼ばれました。これらの名称が変化したことにより、琵琶湖のある現在の滋賀県を「近江国」とし、浜名湖のある現在の⑧の一部を「遠江国」と呼ぶようになったとされています。

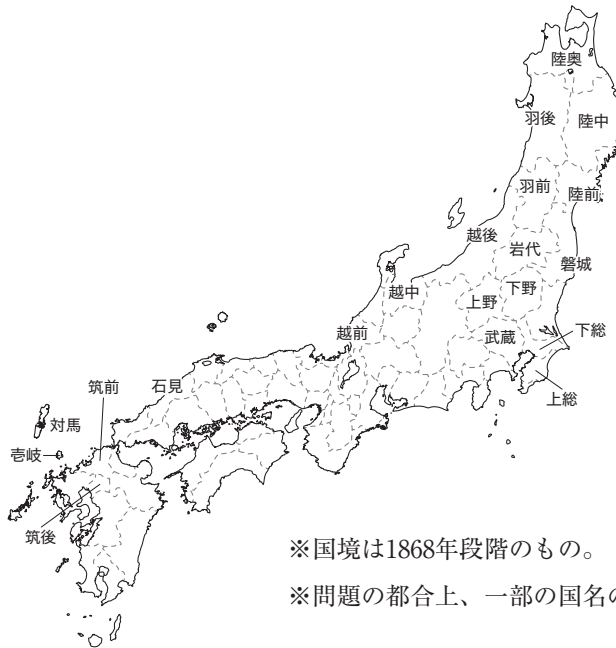
このようにして、平安時代の初期には、日本の行政区分は68国（壹岐と対馬を含む）となり、以後この区分が長らく続きました。なお、それぞれの国の境界は、時代によって多少あいまいな部分や、変化する場合もありました。⑨江戸時代には、数回にわたって国ごとの地図が作成され、国の境界を決める作業が行われました。

明治時代のはじめの時点で、日本の国は73あったとされています。それは、⑩東北地方にあった陸奥国が陸前国・陸中国・陸奥国・磐城国・岩代国の五つに分かれ、また出羽国が羽前国と羽後国の二つに分かれたためです。なお、三陸海岸の「三陸」とは、陸前国・陸中国・陸奥国の総称です。

その後、⑪明治政府が廃藩置県を行うと、「国」という区分は意識されなくなっていきました。廃藩置県が行われた直後は、日本は3府302県もの区分がありましたが、県は次第に再編が進み、1880年代に43県になりました。なお、明治時代に北海道庁を

置いたこと、⑩第二次世界大戦中に東京都が成立したこと、④1972年に沖縄県が返還されたことなど、さまざまな過程を経て、日本の行政区分は現在の47都道府県となりました。

四国の4県をはじめ、群馬県（上野国）や栃木県（下野国）などは旧国境をそのまま県境にしていますが、これらの地域を含めて、旧国名が県名として残ることはありませんでした。一方で、例えば⑩伊豆半島や若狭湾、信濃川といった地名、土佐市や相模原市といった都市名、武蔵境駅や上総一ノ宮駅などの鉄道の駅名のように、旧国名やその一部の文字を含んだ名前が現在も使われており、国という区分がなくなっただけから、旧国名の名残がさまざまな場所にあることがわかります。



※国境は1868年段階のもの。

※問題の都合上、一部の国名のみ記述しています。

問1 下線部⑩は、主要産地の旧国名である伊予が由来となった名称です。伊予国に関連するできごとについて述べた文として正しいものを次のア～エから一つ選び、記号で答えなさい。

ア この国の国司をつとめたことのある人物が、この地域周辺の海賊を率いて西国を荒らしまわり、大宰府も攻撃した。

イ この国では二度にわたって豪族による戦乱が起こったが、ともに源義家らの活躍で鎮圧された。

ウ この国の北部の豪族であった人物は、反乱を起こした後この地域一帯に勢力を拡大し、自ら新皇と名乗った。

エ この国で起こった戦いで、源義経らが活躍し、安徳天皇が入水して、平氏一族が滅亡した。

問2 下線部②は伝来先の薩摩国にちなんでつけた名称です。これに関連して、薩摩の生まれである3人の人物について述べた次のA～Cの文を時期の古いものから順に並べかえるとどうなりますか。正しいものを後のア～カから一つ選び、記号で答えなさい。

- A 西郷隆盛が、鹿児島^おの士族らに推されて反乱を起こしたが敗北した。
- B 首相の黒田清隆が、天皇から大日本帝国憲法を^{さず}発布式典で授かった。
- C 岩倉使節団の一員となった大久保利通が、^{おうべい}欧米に出発した。

- ア A→B→C イ A→C→B ウ B→A→C
- エ B→C→A オ C→A→B カ C→B→A

問3 下線部③が出された後のできごとについて述べた文として正しいものを次のア～エから一つ選び、記号で答えなさい。

- ア 公地公民など4カ条からなる政治の基本的な方針を示した改新の詔が、天皇によって出された。
- イ 墾田永年私財法^{じっし}の実施によって、荘園が増加し貴族や寺社が力を持った。そのため、これをおさえようと三世一身の法^{しこう}が施行された。
- ウ 氏と呼ばれる^{けつえん}血縁集団で結びついていた各地の豪族たちに対し、その家柄^{いえがら}に応じて臣や連といった姓^{あた}を与え、中央の政治に参加させる制度が開始された。
- エ 藤原京から平城京への遷都が行われ、二官八省などの役所が置かれた。都へは全国から調・庸が運びこまれた。

問4 下線部④に関連して、武蔵国の秩父で産出された銅が朝廷に^{けんじょう}献上されたことをきっかけに、8世紀の初めに朝廷が新たに作った銅銭を漢字で答えなさい。

問5 下線部⑤にあった、大和国・摂津国・山城国に関連するできごとについて述べた次のA～Cの文を時期の古いものから順に並べかえるとどうなりますか。正しいものを後のア～カから一つ選び、記号で答えなさい。

- A 後醍醐天皇は大和国の吉野に逃れて、その地で朝廷を開いた。
B 一遍が、踊り念仏を広めつつ全国を巡る途中、摂津国の四天王寺を訪れた。
C 山城国で、国人と農民が団結して守護を追放し、数年間自治を行った。

- ア A→B→C イ A→C→B ウ B→A→C
エ B→C→A オ C→A→B カ C→B→A

問6 下線部⑥に関連して、「越中の女一揆」と呼ばれる事件が、1910年代後半に富山県で起こりました。この事件は、米の価格の引き下げを求める主婦らが米屋などをおそったもので、この後全国的な騒動に拡大しました。その結果、これまでの内閣が倒れ新たな内閣が成立します。新たに成立した内閣の総理大臣を漢字で答えなさい。

問7 下線部⑦の遺跡や古墳について述べた文として正しいものを次のア～エから一つ選び、記号で答えなさい。

- ア 佐賀県の吉野ヶ里遺跡からは、新潟県産のひすいや北海道産の黒曜石が多く見つかっており、縄文時代から遠方との交易が行われていたことがわかる。
イ 福岡県の板付遺跡では、水田のあとだけでなく銅剣がおさめられた墓も発見されており、貧富や身分の差があったことが推測できる。
ウ 熊本県の江田船山古墳からは、「大王」という文字を含む文が刻まれた鉄刀が発見されており、この「大王」とは仁徳天皇を指すと考えられている。
エ 大分県の大仙古墳は、百舌鳥・古市古墳群に含まれる古墳の一つであり、5世紀中ごろにつくられた日本最大級の前方後円墳である。

問8 下線部⑧のできごとについて述べた文として正しくないものを次のア～エから一つ選び、記号で答えなさい。

- ア 江戸幕府3代将軍の時代に、キリスト教禁止の^{いっかん}一環として、日本人の海外^{とこう}渡航や海外にいる日本人の帰国が禁じられた。
- イ 江戸幕府5代将軍の時代に、井原西鶴が『世間胸算用』を出版するなど、上方で町人を中心とする文化が栄えた。
- ウ 江戸幕府8代将軍の時代に、大名に対して、石高1万石につき毎年100石の米を献上させる代わりに^{かんわ}参勤交代を緩和するという上米の制が行われた。
- エ 江戸幕府11代将軍の時代に、老中の松平定信のもとで改革が進められ、公事方御定書が定められた。

問9 下線部⑨は、日本の領域を明確にすることに努めました。その一環として、ロシアと条約を結び北方の国境を取り決めました。この条約の内容はどのようなものですか。この時に取り決めた両国の領土を明らかにして1行で説明しなさい。

問10 下線部⑩に起こったできごとについて述べた文として正しくないものを次のア～エから一つ選び、記号で答えなさい。

- ア 日本はソ連と条約を結んで北方の安全を確保すると、資源の確保などを目的としてインドシナ半島南部に軍を進めた。
- イ 日本では国家総動員法で言論・思想の^し取り締まりが強化され、労働組合や大政翼賛会などの政党が解散させられた。
- ウ アメリカ軍がサイパン島を^{せんりょう}占領して以降、日本への^{くうしゅう}空襲を激しく行ったため、日本の都市に住む児童は^{そかい}集団疎開をすることが多くなった。
- エ アメリカによる二度の原爆投下と、ソ連による日本への宣戦布告を背景に、日本はポツダム宣言を受け入れることを決定した。

問11 下線部⑪に関連して、この地域の豪族^{むすめ}の娘で、鎌倉幕府初代将軍の妻となり、のちに「尼将軍」と呼ばれた人物を漢字で答えなさい。

問12 波線部⑫は、戦国時代後半から江戸時代前半にかけて^{さいせいき}最盛期をむかえた日本最大の銀山があることで有名です。この銀山でとれた銀は、海外に輸出されました。戦国時代後半から江戸時代前半の間に、この銀山の銀を日本から海外に運んだ船としてあてはまらないものを次のア～エから一つ選び、記号で答えなさい。

- ア スペイン船 イ オランダ船 ウ アメリカ船 エ ポルトガル船

問13 空らん ㉑ にあてはまる県で、かつて起こったできごとについて述べた文として正しいものを次のア～エから一つ選び、記号で答えなさい。

- ア 織田信長が安土城を建てた。 イ シーボルトが鳴滝塾を開いた。
ウ モリソン号が浦賀に来航した。 エ 日米和親条約で下田が開港された。

問14 波線部㉒の地につくられた寺院として正しいものを次のア～エから一つ選び、記号で答えなさい。

- ア 唐招提寺 イ 慈照寺 ウ 中尊寺 エ 延暦寺

問15 波線部㉓と同じ年のできごととして正しいものを次のア～エから一つ選び、記号で答えなさい。

- ア 日中共同声明が調印された。 イ 日韓基本条約が調印された。
ウ 日ソ共同宣言が調印された。 エ 日米安全保障条約が調印された。

2

次の文章を読んで、後の問いに答えなさい。

温暖な①気候と季節ごとにさまざまな姿を見せる美しい②自然、歴史や伝統を反映した文化財や③世界遺産、各地にある④地場産業や伝統的工芸品など、日本には魅力のある観光資源がたくさんあります。近年、こうした見どころを求めて日本を訪れる外国人旅行者が多くなっており、2018年には過去最高となる3119万人に達し、初めて3000万人を突破しました。国・地域別に見ると、日本に近い東アジア地域がその上位を占めていますが、東南アジアやヨーロッパ・アメリカなどの割合も増加しています。外国人旅行者による日本国内における消費も急速に拡大し、2018年には過去最高の4兆5189億円を記録しました。外国人に日本で日本製品を買ってもらうことは日本製品が⑤貿易を通じて輸出されて外国人に買ってもらうことと結果的には同じです。つまり観光業が実質的に日本の主要な輸出産業の一つになっていることを示しています。なお、2018年には⑥日本を出国した日本人の数も1895万人と過去最高を記録していますが、それをはるかに上回る外国人旅行者が日本を訪問していることがわかります。

⑦外国人旅行者の訪問先も多様化しています。以前は旅行者の半数以上が三大都市圏のみを訪問先としていましたが、2015年にはそれ以外の地方を訪れる人の割合が上回りました。また、外国人旅行者の関心も、もともと人気のある日本食やショッピングに加えて、スキー・スノーボードや温泉など、地方への訪問につながりやすい活動へと広がっています。

さて、外国人旅行者が増加した背景には、日本政府が国を挙げて観光客の誘致に力を入れていることもありますが、やはり各地域が観光開発に努めていることが関係しています。具体的には農山漁村に宿泊して⑧農業や漁業を体験する滞在型旅行が全国各地で行われているほか、愛媛県と広島県を結ぶ「瀬戸内 ⑨ 海道」を自転車でわたりながら食事や温泉などを楽しむサイクルツーリズム、映画やドラマの撮影地であることをいかした⑩千葉県いすみ市のロケツーリズムなど、各地域が特色のある取り組みを進めています。

日本は高度経済成長期以降、主に⑪工業生産を推進することで経済発展を続けてきました。しかし⑫人口減少社会、少子高齢化社会をむかえた今、政府は観光を経済成長の柱の一つにしようとしています。今年では東京で⑬オリンピックが開催され、さらに旅行者の増加が見込まれます。日本を訪れる旅行者により快適に過ごしてもらうために、さまざまな環境整備を進めていく必要があるでしょう。

ただし、一部の観光地では、外国人旅行者の増加による⑭交通機関の混雑や道路の渋滞、生活文化のちがいがからくるマナー違反などにより、地域住民が不満を持つ例も見られます。また、国どうしの政治・経済をめぐる状況の変化や、自然災害などによ

り観光客が減少する可能性もあります。今後は観光と地域全体の発展の両立についても考えなければならないでしょう。

問1 下線部①について、日本の気候について述べた文として正しいものを次のア～エから一つ選び、記号で答えなさい。

- ア 北海道は緯度が高いため冬の気温が低くなり、梅雨が遅れてやってくることから8月と9月に降水量が多くなるのが特徴である。
- イ 日本海側の地域は、沖合を寒流の千島海流が流れているために冬の寒さが厳しく、フェーン現象の影響を受けて夏に降水量が多いのが特徴である。
- ウ 中央高地は海から離れているために年間を通して降水量は少なく、夏と冬の平均気温の差が小さいことが特徴である。
- エ 南西諸島は緯度が低いため気温が高く、台風の影響を受けやすいため降水量が多いのが特徴である。

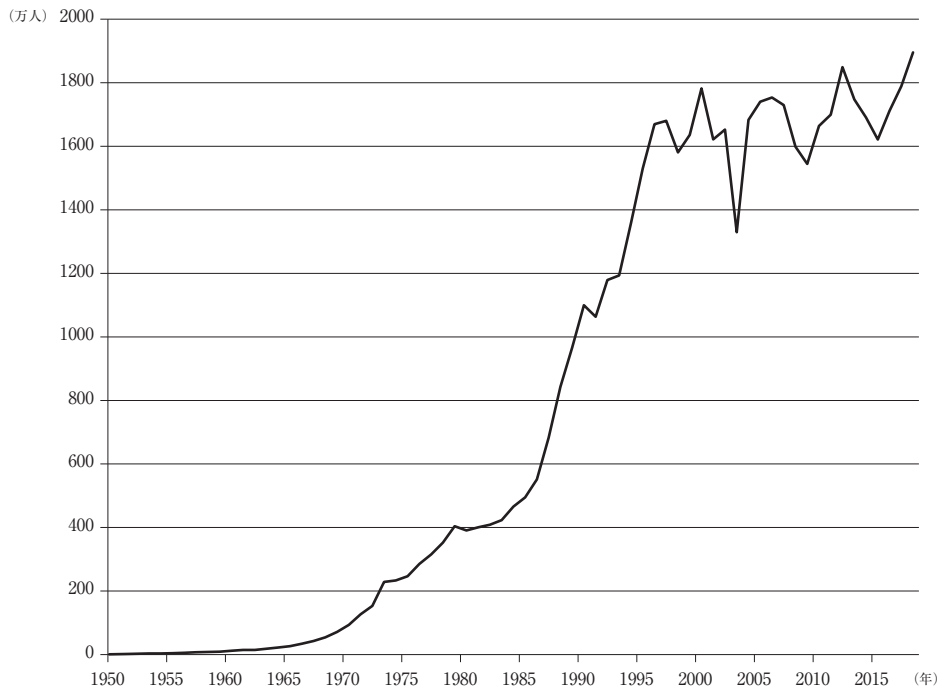
問2 下線部②について、日本各地の自然について述べた文として正しいものを次のア～エから一つ選び、記号で答えなさい。

- ア 東北地方を南北に貫く奥羽山脈を境に、太平洋側には雄物川や最上川、日本海側には北上川や阿武隈川が流れている。
- イ 越後山脈を水源として関東地方を流れる利根川は、多くの支流を持つことから、日本一の流域面積をほこっている。
- ウ 中部地方には日本アルプスと呼ばれる三つの山脈が高くそびえており、このうち飛騨山脈からは天竜川や大井川が流れ出ている。
- エ 四国地方には現在も火山活動がさかんな讃岐山脈が東西に横断し、瀬戸内海に向けて日本有数の清流である四万十川が流れている。

問3 下線部③について、日本の貿易について述べた文として正しくないものを次のア～エから一つ選び、記号で答えなさい。

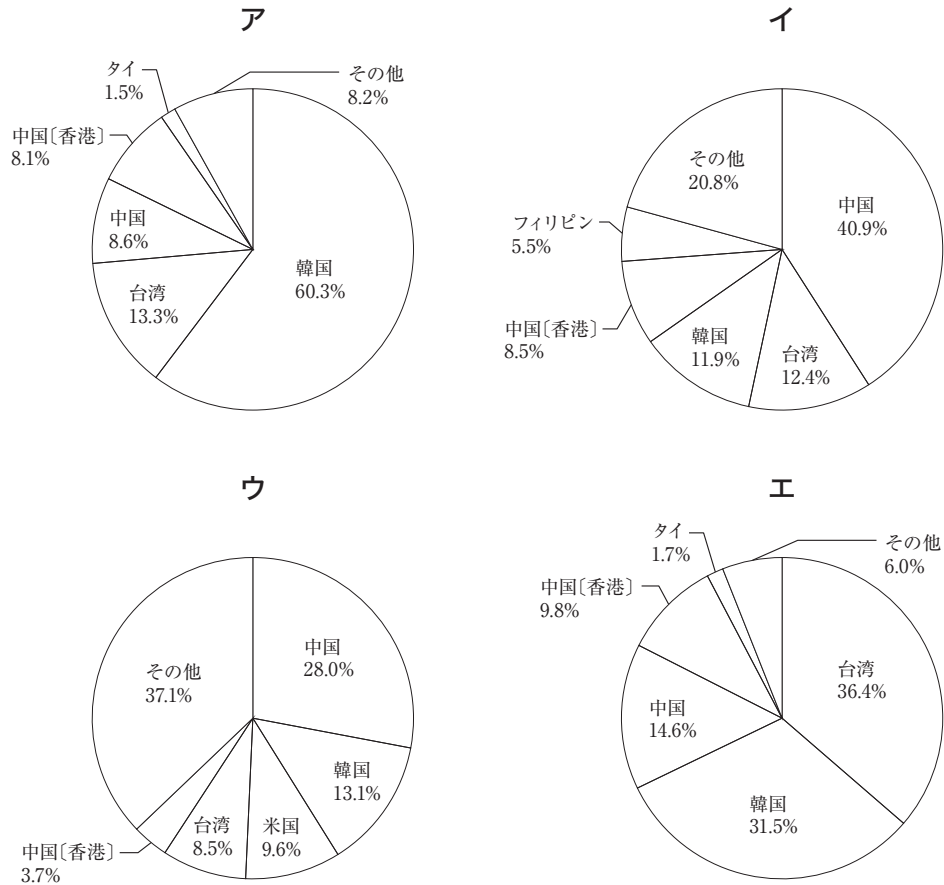
- ア TPP（環太平洋経済連携協定）は、アメリカ合衆国の離脱で実現が危ぶまれたが、残る11カ国で新協定を締結し、日本も国内手続きを済ませた。
- イ 1960年代には繊維品が主な輸出品であったが、現在は機械類や自動車などが輸出品目の上位を占めている。
- ウ 原油の輸入は8割以上を中東地域に、石炭の輸入は約6割をオーストラリアに依存している。
- エ 近年、経済発展したアジアの国・地域などからの製品の輸入が増えているが、戦後日本が貿易赤字になったことはない。

問4 下線部④について、次のグラフは、1950年から2018年までの日本人の出国者数の推移を示したものです。これを見ると、1964年に海外渡航が自由化されて以降、出国者が増えていることがわかりますが、1980年代後半以降に出国者が急増していることも見て取れます。その理由の一つについて、日本を取り巻く外国為替(外国の通貨との交換比率)の変化に触れながら1行で説明しなさい。



(法務省「出入国管理統計」より作成)

問5 下線部⑤に関連して、次のア～エのグラフは、東京国際空港（羽田空港）、中部国際空港、福岡空港、那覇空港のいずれかについて、入国外国人の国籍・地域こくせきの割合（2018年）を示したものです。このうち福岡空港と那覇空港にあてはまるものを次のア～エからそれぞれ一つ選び、記号で答えなさい。



（法務省「出入国管理統計」より作成）

問6 下線部⑥について、次の地図中のA～Dの地域で見られる農業について述べた文として正しいものを後のア～エから一つ選び、記号で答えなさい。



- ア Aの地域はかつて荒れ地の多い高原地帯であったが、戦後に開拓が進み、かんがい用水が整備された結果、現在では日本有数のりんごの産地となっている。
- イ Bの地域では夏でも冷涼な気候をいかし、レタスなどの野菜を栽培する高冷地農業がさかんである。
- ウ Cの地域には火山灰が積もってできた台地が広がり、小麦や大豆などの畑作や畜産業がさかんである。
- エ Dの地域には大規模な平野が広がり、大型の農業機械を利用してじゃがいもやてんさいが大規模に栽培されている。

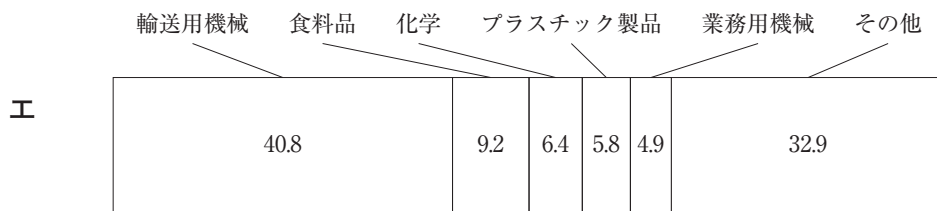
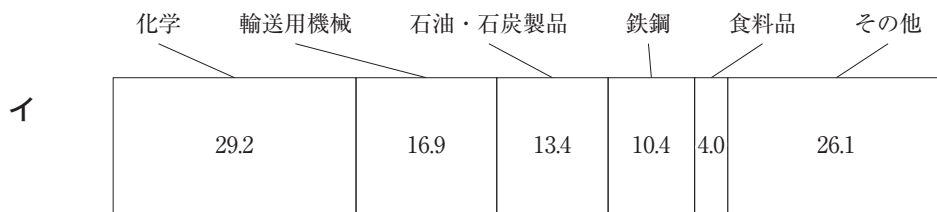

問7 空らん にあてはまる語句をひらがなで答えなさい。

問8 下線部⑧について、次の表は、千葉県が上位に入るにんじん、ほうれんそう、すいか、トマトの生産量（2017年）について、上位5都道府県を示したものです。このうち、にんじんにあてはまるものを次のア～エから一つ選び、記号で答えなさい。

	ア	イ	ウ	エ
1位	熊本県	熊本県	北海道	千葉県
2位	千葉県	北海道	千葉県	埼玉県
3位	山形県	茨城県	徳島県	群馬県
4位	鳥取県	愛知県	青森県	茨城県
5位	長野県	千葉県	茨城県	宮崎県

（『データでみる県勢2019年版』より作成）

問9 下線部⑨について、次のア～エのグラフは、北海道、群馬県、長野県、山口県のいずれかについて、製造品出荷額等の割合（2016年）を示したものです。このうち山口県にあてはまるものを次のア～エから一つ選び、記号で答えなさい。



（『データでみる県勢2019年版』より作成）

問10 下線部⑩について、日本は人口減少社会に入り、少子高齢化も進んでいますが、その進行には地域差もあります。次の表は、秋田県、愛知県、沖縄県について、人口に関する指標をまとめたものです。A～Cの組み合わせとして正しいものを後のア～カから一つ選び、記号で答えなさい。

	65歳以上の人口の割合 (2017年推計)	社会増減率(※) (2016～17年)	合計特殊出生率 (2017年)
A	24.6%	0.27%	1.54
B	35.6%	-0.41%	1.35
C	21.0%	-0.03%	1.94

※ 社会増減率とは、ある地域の人口について、転入数と転出数の差を示したものです。転入数の方が多い場合には0より大きくなり、転出数の方が多い場合には0より小さくなります。

(『データでみる県勢2019年版』より作成)

	A	B	C
ア	秋田県	愛知県	沖縄県
イ	秋田県	沖縄県	愛知県
ウ	愛知県	秋田県	沖縄県
エ	愛知県	沖縄県	秋田県
オ	沖縄県	秋田県	愛知県
カ	沖縄県	愛知県	秋田県

問11 下線部⑪について、オリンピック旗の五輪のマークは、世界の五大陸を示す輪が結びついて描かれています。この旗に描かれていないもう一つの大陸はどこですか。解答らんには合うように漢字で答えなさい。

問12 下線部⑫に関連して、交通渋滞や大気汚染の緩和に役立つとされ、高速道路の料金所で停車することなく通行料金を支払うことができるシステムを何と言いますか。カタカナまたはアルファベットのいずれかで答えなさい。

問13 波線部㉓は複数の都道府県にまたがって登録される場合があります。このうち1993年に世界自然遺産として登録された白神山地が位置する都道府県の組み合わせとして正しいものを次のア～エから一つ選び、記号で答えなさい。

- | | |
|-----------|-----------|
| ア 青森県と秋田県 | イ 青森県と岩手県 |
| ウ 山形県と秋田県 | エ 山形県と岩手県 |

問14 波線部㉔について、都市とその都市に立地している地場産業の組み合わせとして正しいものを次のア～エから一つ選び、記号で答えなさい。

- | | |
|---------------|-----------------------------|
| ア 香川県丸亀市－タオル | イ 新潟県燕市－めがね ^{わく} 枠 |
| ウ 千葉県野田市－しょうゆ | エ 愛媛県今治市－うちわ |

次のページにも問題があります

3

次の会話文は中学3年生の吉子さんと祥子さんが昨年12月に話した内容です。これを読んで、後の問いに答えなさい。

吉子：この前、社会の授業で少子化の原因の一つが教育に①お金がかかることだと教わったね。

祥子：確かに私はお金をかけて育ててもらっていると思う。今後も生活する上で金のかかることは避けて通れない問題だよ。例えば出産や子育てにはいったいどれくらいお金がかかるんだろう。インターネットで調べてみようよ。

吉子：じゃあ、まず出産に関する費用から検索してみるね。妊娠してから出産までに約14回妊婦検診があって、費用は病院によって結構ちがうらしい。

祥子：②市町村からの公的な補助が約10万円あるけど、それだけでは足りないこともあるみたい。

吉子：出産時の費用の平均は約50万円で、公的医療保険から一時金が42万円出るらしいから、実質負担は差額の8万か。思ったより負担は少ないかも。思った以上に③社会に支えられているんだね。でも赤ちゃんの服とか紙おむつとかいろいろと費用もかかるよね。

祥子：次は保育園。自治体によってずいぶんちがうね。子供の年齢や世帯収入、認可保育園か無認可保育園なのかで費用に差があるみたいだよ。

吉子：5月に④国会で法律が改正されて、10月から一部は無償になったけど、不十分だという声も出ているね。

祥子：この改正は⑤内閣からの発案で、安倍政権がめざす「全世代型社会保障」の柱なんだって。これに対しては待機児童解消を優先するべきだという批判もあったね。

吉子：保育園の後ほどのくらいかかるんだろう。生まれてから中学卒業までの子育て費用の総額は、平均で1900万円近くになるみたいだよ。

祥子：うわー。そんなにかかるんだ。

吉子：高校や大学ではさらに学費がかかるよね。

祥子：外国には大学院まで無償の国もあるのにな。なんだかうらやましいな。

吉子：そうとは言い切れないと思うよ。学費がかからない国は、税が高いからね。

⑤スウェーデンは、⑥消費税が25%だよ。

祥子：税が安い方がいいのか、保障が厚い方がいいのか、難しいところだね。

吉子：かつて⑦イギリスでは「ゆりかごから墓場まで」を目標にかかげた手厚い社会保障があったけど、お金がかかりすぎて社会保障費を減らしたよね。

祥子：スウェーデンでは手厚い社会保障を維持するために増税を訴えた政党が⑧選挙で勝ったことがあるよ。国によって負担と保障のあり方はいろいろだね。

吉子：それにしても、大人になるまでにはすごくお金がかかるんだね。大人になったら、いくら稼^{かせ}げるんだろう。

祥子：女性が大学卒業後60歳まで正社員として働いた賃金の合計は、平均で約2億1590万円で、男性は約2億6980万円らしいよ。その間の生活費の合計は、一人暮らしの場合は平均で7400万円くらい。二人以上で暮らす場合の生活費はこれとはちがうけど、残りのお金で子育てをしたり老後のための貯金もしたりするんだよね。

吉子：そういえば、6月に ㉔ が出した報告書で、老後の生活資金は年金だけでは約2000万円足りなくなるって言ってたね。

祥子：年金制度については選挙でも話題になったけど、そもそも国民年金だけでは額が少なく、生活するには厳しいみたいだよ。

吉子：報告書は、年金制度を批判するものではなくて、㉗ 株式などを買って資産を運用することをうながすものだったらしい。報告書はその後撤回されたけど、年金制度をよりよくするために何ができるのか、政府も国民も考えていく必要がありそうだね。私たちも働くようになったら、自分の老後のために計画的にお金を貯^ためることも考えなくちゃいけないね。

問1 下線部①の機能の一つに、ものの価値をたくわえる働きがあります。これについての説明として正しいものを次のア～エから一つ選び、記号で答えなさい。

ア 農家が野菜を大量に収穫^{しゅうかく}した場合、そのままだと数日後には腐^{くさ}ってしまうが、お金にかえれば財産として残すことができる。

イ 他人のものをこわしてしまった場合、お金が存在すればこわしたものの価値をはかり、正当な賠償^{ていぱい}ができる。

ウ 漁師が魚を大量にとり、米と交換^{こうかん}したい場合、一旦^{いったん}お金と交換すれば魚がほしい農家をさがさなくても簡単に交換することができる。

エ 世の中に出回るお金の量が少なすぎて景気が悪くなった場合、お金の量を増やせば景気を調節することができる。

問2 下線部②に関連して、市町村や都道府県などの地方公共団体で行われている直接請求の制度について述べた文として正しいものを次のア～エから一つ選び、記号で答えなさい。なお、ここではすべて有権者が40万人未満の自治体に関するものとします。

ア 監査を請求する場合は、有権者の3分の1以上の署名を集めて監査委員に提出する。

イ 条例の制定や改廃^{かいはい}を請求する場合は、有権者の50分1以上の署名を集めて議会に提出する。

ウ 議員の解職を請求する場合は、有権者の3分の1以上の署名を集めて選挙管理委員会に提出する。

エ 議会の解散を請求する場合は、有権者の50分の1以上の署名を集めて首長に提出する。

問3 下線部③に関連して、私たちの生活を社会全体で支える制度の法的根拠^{ほうてきこんきょ}は、社会権が基本的人権として認められていることです。日本における社会権について述べた文として正しくないものを次のア～エから一つ選び、記号で答えなさい。

ア 日本国憲法では、すべての人に働く権利を保障しており、同時に、働くことは国民の義務でもあると定められている。

イ 労働者が人間らしい生活をするための最低限の労働条件については、1日8時間労働などの規定が労働基準法に定められている。

ウ 戦後の民主化政策の一環^{いっかん}として労働組合法などが成立し、労働者の諸権利が広く保障されるようになった。

エ 日本国憲法では、教育を受けることは国民の権利であると同時に、国民の義務でもあると定められている。

問4 下線部④の働きの一つに、行政などが正しく行われているかどうかを監視^{かんし}し、調べる権限があります。この権限に基づいて国会に証人を呼んだり、記録の提出を求めたりすることができますが、この権限を何と言いますか。漢字5字で答えなさい。

問5 下線部⑤について、現在の日本の内閣について述べた文として正しくないものを次のア～エから一つ選び、記号で答えなさい。

- ア 内閣はいずれかの議院の4分の1以上の要求があれば、臨時国会の召集を決定しなければならないと憲法で定められている。
- イ 衆議院が内閣不信任案を可決した時のほか、内閣の独自の判断によって衆議院を解散することができるという憲法解釈が定着している。
- ウ 閣議は内閣総理大臣と国務大臣が政策や方針などを確認するもので、決定は^{ぜんかいいちち}全会一致で行うことが慣例となっている。
- エ 内閣は、臨時国会の冒頭および、衆議院による不信任決議後に衆議院を解散しなかった時には、総辞職しなければならないと憲法で定められている。

問6 下線部⑥に関連して、日本の消費税について述べた文として正しくないものを次のア～エから一つ選び、記号で答えなさい。

- ア 日本で最初に導入されたのは1989年の宮沢喜一内閣の時であり、当初の税率は5%だった。
- イ 税率が8%に引き上げられた翌年には、一般会計の国債への^{いそん}依存の割合が下がった。
- ウ 税率が10%に引き上げられた主な目的は、年金、医療、介護の社会保障費や少子化対策などの費用にあてることである。
- エ 税率が8%から10%に引き上げられた際に、特定の商品のみ8%にすえ置く軽減税率が導入された。

問7 下線部⑦に関連して、1980年代後半に多くの企業や個人が資産運用のために土地や株式を買い、地価や株価が実際の価値をこえて大きく上がり、好景気となりました。この景気を何と言いますか。解答らんには合うように答えなさい。

問8 波線部㉔で1972年に開かれた環境に関する国際会議について述べた文として正しいものを次のア～エから一つ選び、記号で答えなさい。

- ア この会議の成果として人間環境宣言を採択した。
- イ この会議は通称「地球サミット」とも呼ばれている。
- ウ この会議では先進国のみ二酸化炭素削減の数値目標を定めた。
- エ この会議のテーマは「持続可能な開発」であった。

問9 波線部㉕の首相が2019年に交代しました。新たな首相として正しいものを次のア～エから一つ選び、記号で答えなさい。

- ア メイ
- イ ジョンソン
- ウ マクロン
- エ メルケル

問10 波線部㉖に関連して、現在の日本の選挙制度について述べた文として正しいものを次のア～エから一つ選び、記号で答えなさい。

- ア 4年おきにすべての都道府県、市町村の首長と議会の選挙を同時に行う。
- イ 衆議院議員選挙の比例代表は全国を1区として選出する。
- ウ 参議院議員選挙の比例代表制で、有権者は政党名か候補者名を書いて投票する。
- エ 衆議院議員選挙では、小選挙区より比例代表の方が議席が多い。

問11 空らん に当てはまる役所として正しいものを次のア～エから一つ選び、記号で答えなさい。

- ア 金融庁
- イ 財務省
- ウ 会計検査院
- エ 総務省

問題は以上です

2020年度 入学試験解答用紙〔社会〕(35分)

第3回 2月4日実施
吉祥女子中学校

1	問1	問2	問3	問4	問5		
	問6		問7	問8			
	問9						
	問10	問11					
	問12	問13	問14	問15			

2	問1	問2	問3				
	問4						
	問5		問6	問7	問8		
	福岡	那覇					
	問9	問10	問11		問12		
					大陸		
	問13	問14					

3	問1	問2	問3	問4		
	問5		問6	問7		
				景気		
	問8	問9	問10	問11		

受験番号	氏名

得点