

2021年度入学試験問題

# 社 会

(35分)

第2回 2月2日実施

[注意] 解答はすべて解答用紙に記入しなさい。  
問題用紙も提出しなさい。

吉祥女子中学校

## 1

次の文章を読んで、後の問いに答えなさい。

江戸時代後期の林子平<sup>はやしへい</sup>という人物は、「日本は海国であり、江戸の〔①〕より中国・オランダまで境のない水路である」と著書で述べました。これは、五街道の起点である〔①〕から外国までは、川や海でつながっているため行き来ができることを指しています。かれは、特定の外国船が来航していた長崎だけでなく、江戸城のすぐ近くにまで外国船が来る可能性があることを指摘<sup>してき</sup>し、江戸周辺の海防の重要性を説きました。

林子平が述べたように、日本は海に囲まれた国です。今から約1万2千年以上前に、陸続きだった大陸から離れ、列島になりました。その後、海を越えて、大陸から稲作とともに青銅器や鉄器がもたらされ、新たな文化が成立しました。例えば、②対馬や壱岐、九州北部の小国や邪馬台国についてふれた中国の歴史書の記述からは、対馬や壱岐の人々が大陸との交易を行っていたことが推測されます。このように、日本は海を通じて他の国や地域とつながってきました。

唐が中国を統一し、朝鮮半島へ進出していくと、東アジア諸国はそれぞれ国家の権力を集中してこれに対抗<sup>たいこう</sup>する動きを見せました。日本でも、唐から帰国した留学生たちによって大陸の様子が伝わっていました。こうした情報を得た③蘇我氏や中大兄皇子らはそれぞれ敵対する勢力を排除<sup>はいじょ</sup>して権力を集中しようと試みました。東アジア諸国に大きな影響<sup>えいきょう</sup>を与えた唐は、西方にも進出し、ペルシャやイスラム勢力の国家などとさかんに交易を行いました。大陸の東西を結ぶこの交易を支えたのは④シルクロードなどの陸路だけではなく、インド洋を中心に中国沿岸までおよんだ「海の道」でした。その後、唐は内乱などで衰退<sup>すいたい</sup>し、日本は〔④〕の提案によって遣唐使<sup>はけん</sup>の派遣を停止しました。これ以降、日本は⑤宋や元と国交を結びませんでした。海を通じた交易や文化交流が続けられました。

14世紀後半に成立した明は、正式な国交を結んだ国とのみ貿易を行いました。そこで⑥室町幕府は、⑦5世紀の倭のように、皇帝に朝貢し従属するという形式で国交を結びました。これによって、幕府は明との貿易を許可されました。また、明は自国民の海外渡航<sup>とこう</sup>も禁止したので、中国沿海部に住む商人らは朝鮮や日本などと密かに私的な貿易を行いました。こうしたアジアでの貿易に、勢力を伸ばしたポルトガルやスペインも参入するようになり、やがて日本にも鉄砲や⑧キリスト教がもたらされました。こうして始まった南蛮貿易において、日本は主に銀で支払いを行いました。その銀の多くは、現在世界遺産に登録されている〔⑦〕銀山で採れたものでした。

ヨーロッパでは、ポルトガルやスペインと宗教的に対立したオランダやイギリスが、勢力を増すとともに東南アジアへも進出するようになります。東南アジアへの航路を開くためにオランダを出発した船が、遭難<sup>そうなん</sup>して日本へ漂着<sup>ひょうちゃく</sup>すると、徳川家康は乗船し

ていたオランダ人とイギリス人を仕えさせ、両国との貿易を始めました。

江戸時代の対外関係の基本となった⑧「鎖国」体制は、黒船の来航をきっかけに終わりました。ほどなくして成立した⑨明治政府は、欧米に学んで近代化を急速に進め、日清戦争で勝利し、台湾やその付近の島々を初めての植民地として獲得しました。第一次世界大戦を経て、日本は、ドイツ領だった南洋諸島の支配を認められ、西太平洋の赤道付近にも拠点を持つことになりました。その後、⑩太平洋戦争の時期には、日本は、「大東亜共栄圏」の建設という名目を掲げて、東南アジアから太平洋にかけての広大な地域と海域を一時勢力下に置きました。しかし、やがて各地で戦況が悪化し、最終的に敗戦しました。

戦後、日本の領土は、⑪ポツダム宣言にもとづき、本州・北海道・九州・四国とその周辺の島々に限られました。このときに領有権が規定されなかった島々をめぐる、現在も⑫ロシアや中国、韓国との間で対立があり、その周辺の海域で危機感が高まる事態も起きています。海は、交易や文化交流の場であると同時に、争いの場でもあります。日本は、こうした海に囲まれた国なのです。

問1 空らん  にあてはまる語句を漢字3字で答えなさい。

問2 下線部②について述べた文として正しいものを次のア～エから一つ選び、記号で答えなさい。

- ア 蘇我氏は対立した物部氏を倒した。また、百済の国王からもたらされた仏教を信仰し、本格的な寺院を建てて、その権力を示した。
- イ 蘇我馬子は初の女帝である持統天皇やその甥の厩戸皇子とともに、冠位十二階や憲法十七条を制定して、天皇のもとに豪族たちを役人として従わせようとした。
- ウ 中大兄皇子は中臣鎌足らと協力して蘇我蝦夷・入鹿父子を滅ぼして、政治の実権を握った。その翌年には、改新の詔にもとづいて班田収授の法を実施した。
- エ 中大兄皇子は近江に都をうつし、天智天皇として即位した。その後、百済の救済のために朝鮮半島へ出兵し、唐・新羅の連合軍と交戦した。

問3 下線部③による交流や、中国の影響を受けた日本の文化について述べた文として正しくないものを次のア～エから一つ選び、記号で答えなさい。

- ア シルクロードとは「絹の道」という意味で、この道を通じて中国の絹がヨーロッパへもたらされた。
- イ シルクロードを通じて中国へ入ってきた文物は、日本へも流入した。こうした貴重な品々を収める東大寺の正倉院は「シルクロードの終着点」と言われる。
- ウ 遣唐使によってもたらされた唐の文化の影響を受けて、8世紀の日本では、天平文化が成立し、現存する最古の和歌集である『万葉集』などが作られた。
- エ 唐に留学した最澄と空海は、日本の仏教制度を整えるために、唐から鑑真をともなって帰国した後、それぞれ天台宗・真言宗という新しい仏教を伝えた。

問4 空らん  にあてはまる人物を漢字で答えなさい。

問5 下線部⑤の時代の中国と日本のかかわりについて述べた次のA～Cの文を時期の古いものから順に並べかえるとどうなりますか。正しいものを後のア～カから一つ選び、記号で答えなさい。

- A 中国との貿易をさかんにするために、大輪田泊が整備された。
- B 中国から帰国した僧侶が、茶の効能に関する著書を源実朝に献上した。
- C 後醍醐天皇が討幕を計画していたころ、幕府は貿易船を中国に派遣した。

- ア A→B→C                      イ A→C→B                      ウ B→A→C
- エ B→C→A                      オ C→A→B                      カ C→B→A

問6 下線部⑥に関連して、室町時代のできごとについて述べた文として正しいものを次のア～エから一つ選び、記号で答えなさい。

- ア 幕府は将軍の下に執権という補佐役を置き、さらにその下に侍所・政所・問注所を置くという、鎌倉幕府のしくみをそのまま採用した。
- イ 京都で平安時代から続けられてきた祇園祭は、南北朝の動乱のときに中断したが、8代将軍足利義政によって復興された。
- ウ 15世紀前半には、沖縄に分立していた小国が統一されて、琉球王国が成立した。琉球王国は都を首里に置き、東アジアや東南アジア諸国との中継貿易で栄えた。
- エ 幕府が保護した禅宗の影響を受け、寺院の庭園には枯山水が流行したり、中国で学んだ運慶によってすぐれた仏像が作られたりした。

問7 空らん  にあてはまる語句を漢字2字で答えなさい。

問8 下線部⑧のもとでの江戸時代の日本について述べた文として正しいものを次のア～エから一つ選び、記号で答えなさい。

- ア 3代将軍の時代に、日本人の海外渡航や海外にいる日本人の帰国が全面禁止とされたが、朱印船だけは海外渡航が許可され、山田長政などが海外で活躍した。
- イ 儒学者で6代将軍と7代将軍に仕えた人物が、金を多く含む良質な貨幣を発行した。また、長崎貿易を制限して、金や銀の国外流出を防ごうとした。
- ウ 幕府はオランダの商館を平戸から長崎の人工島である出島に移転させ、貿易を許可した。また、将軍は毎年オランダ国王が派遣する使節を江戸城で歓迎した。
- エ 18世紀末から19世紀前半に、ロシアやイギリスなどの外国船の来航が相次ぐと、幕府は朝廷や外様大名などの意見を求め、団結して「鎖国」を維持しようとした。

問9 下線部⑨について、明治政府が主導した近代化について述べた文として正しいものを次のア～エから一つ選び、記号で答えなさい。

- ア 明治政府は五稜郭の戦いで旧幕府軍を降伏させると、五か条の御誓文を出し、旧来の悪習を捨て、外国から新しい知識を取り入れるという方針を示した。
- イ 明治政府は、旧幕府や藩の運営していた工場や鉱山の大半を旧式のものとしてとりこわし、そこに造船所や紡績工場などの官営工場を次々と新設した。
- ウ 前島密を中心に郵便制度が整備されて、江戸時代に陸上の通信をになった飛脚は営業ができなくなった。
- エ 文明開化が進む東京の銀座では、れんが造りの建物が並び、街灯として電灯が使用され、鉄道馬車や人力車が走った。

問10 下線部⑩について、第一次世界大戦の開戦から太平洋戦争の開戦までのできごとについて述べた文として正しいものを次のア～エから一つ選び、記号で答えなさい。

- ア 米価の上昇を受けて、米の安売りを求める騒動が富山県から全国に広まると、原敬内閣は軍隊を出動させて鎮圧した。
- イ 日本がフランス領インドシナ南部を占領し、さらに北部まで進攻すると、アメリカは制裁として日本への石油輸出を禁止した。
- ウ 東京や横浜など関東地方南部を中心とする大震災が発生し、多くの犠牲者を出した。また多くの会社が倒産し、失業者が増加するなど、景気も悪化した。
- エ 陸軍の中には、首相を暗殺して軍部中心の政権を樹立しようとする動きがあり、この動きに反対する学者らを取りしめるために治安維持法が制定された。

問11 下線部⑪に関するできごとについて述べた次のA～Cの文を時期の古いものから順に並べかえるとどうなりますか。正しいものを後のア～カから一つ選び、記号で答えなさい。

- A ソ連が解体して、ロシア連邦が旧ソ連の国際的地位などを継承した。
- B 日本と中華人民共和国との国交が正常化した。
- C 日本は、韓国を朝鮮半島に存在する唯一の政府と認め、国交を樹立した。

- ア A→B→C            イ A→C→B            ウ B→A→C
- エ B→C→A            オ C→A→B            カ C→B→A

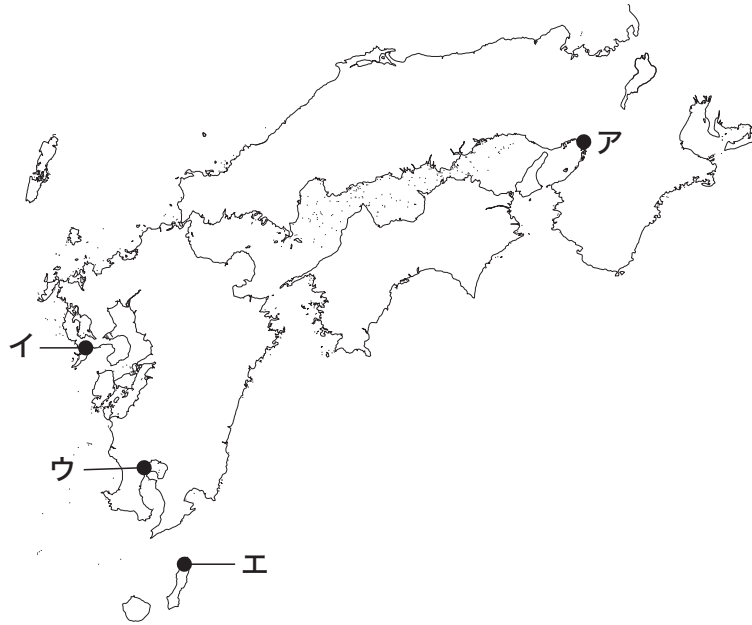
問12 波線部㉑として正しいものを次のア～エから一つ選び、記号で答えなさい。

- ア 『後漢書』東夷伝            イ 『魏志』倭人伝
- ウ 『漢書』地理志            エ 『隋書』倭国伝

問13 波線部㉒のできごとについて述べた文として正しいものを次のア～エから一つ選び、記号で答えなさい。

- ア 中国で孔子が儒教を説いた。
- イ 現在の大阪府に大山古墳がつくられた。
- ウ 現在の奈良県を中心とする地域でヤマト政権が成立した。
- エ 倭が朝鮮半島にわたり、高句麗の好太王と初めて交戦した。

問14 波線部㊸を伝えたフランシスコ・ザビエルが、初めて日本で上陸した場所として正しいものを次の地図中のア～エから一つ選び、記号で答えなさい。



問15 波線部㊸に関連して、ポツダム会談に直接参加した国の組み合わせとして正しいものを次のア～エから一つ選び、記号で答えなさい。

- |   |                |   |                |
|---|----------------|---|----------------|
| ア | アメリカ・イギリス・ソ連   | イ | アメリカ・イギリス・ドイツ  |
| ウ | アメリカ・イギリス・中華民国 | エ | アメリカ・イギリス・オランダ |

2

次の文章を読んで、後の問いに答えなさい。

①「つる舞う形の群馬県」。これは、「上毛かるた」の札の一つです。上毛かるたは群馬県の郷土かるたで、1947年につくられました。それぞれの札には、県内の自然や温泉、歴史上の人物や地域の産業など、群馬県の特徴が詠みこまれています。上毛かるたの札は44枚ありますが、このうち地理の学習に役立つ札を紹介したいと思います。

まず、「利根は坂東一の川」という札があります。群馬県のほぼ中央を流れ、茨城県と千葉県の県境などを通して太平洋に注ぐ利根川は、全長が322kmで、日本で2番目の長さをほこっています。利根川には、②「坂東太郎」という愛称もあります。利根川水系には多くの③ダムがあり、その水は群馬県をはじめ、下流の都県の人々の生活や、④農業などに利用されています。また、「理想の電化に電源群馬」という札が示すように、第二次世界大戦後は、急速に進む工業化などで電気の需要が高まったため、ダムを利用した⑤水力発電の開発が進みました。

産業については、「繭と生糸は日本一」、「⑥県都前橋生糸の市」、「桐生は日本の機どころ」といった札があります。これらは、⑦養蚕や生糸の生産、織物産業がさかんなことを示しています。養蚕は、1500年以上前に⑧中国から日本に伝わり、群馬県でも火山灰地が蚕の餌となる⑨桑の葉の栽培に適していたことから根づいたと言われています。幕末の開港後は、生糸は外貨を稼ぐ有力な輸出品でした。良質な生糸はヨーロッパで「マエバシ」と呼ばれるなど、群馬県の生糸は外国からも注目されるようになりました。外国からの生糸の注文が増えてくると、生産量を増やそうと個人で器械製糸を始める人もいました。富岡には、器械を取り入れた西洋式製糸場が、日本で初めての官営製糸場として建てられ、1872年に製糸作業が始まりました。「日本で最初の富岡製糸」と詠まれた富岡製糸場は、現在⑩世界遺産に登録されています。また、桐生は古くから織物の町として知られています。有名な西陣織の技術などを取り入れ、「西の西陣、東の桐生」と言われるほど上質な織物が生産されています。このように群馬県の工業は、かつては軽工業が中心でしたが、第二次世界大戦後は機械工業が発達しました。2017年の群馬県の製造品出荷額等割合を見ると、⑪輸送用機械器具の割合が約40%ともっとも高くなっています。


産業を詠んだ札には他にも「⑫ねぎと ⑬ 下仁田名産」というものがあります。下仁田ねぎは、甘みのあるおいしいねぎとして有名です。下仁田の畑は、粘土質の重たい土で、⑭スーパーマーケットでよく見かけるような長ねぎは育ちにくい土地でしたが、ずんぐりとした独特の形のねぎの栽培に適していたのだそうです。また、⑮の原料となるいもは、夏の間は畑に植えて、冬はその根を掘り出して取っておき、次の年にまた植える、ということをして2～3年くりかえして、大きくして収穫します。なお、このいもの生産量は、群馬県が日本一となっています。




最後に「力あわせる二百万」という札を紹介します。この札は、1947年の初版では「力あわせる百六十万」でした。⑪人口の増加にともなって4回改められて1993年に当時の人口に合わせて「力あわせる二百万」となり、現在もこの札が使われています。上毛かるたを知っている人たちの間では、それぞれの年代を知る目安に使われることがあるそうです。

ここでは群馬県の上毛かるたを紹介しましたが、全国各地に都道府県の規模や市区町村の規模で地域を知ることができる郷土かるたがたくさんあります。かるたで遊びながら地域のことを学ぶことはもちろん、学んだことをいかして地域のかるたをつくることも面白そうですね。


問1 下線部①に関連して、次の先生と生徒の会話文のうち、下線部が正しくないものは誰の発言ですか。後のア～エから一つ選び、記号で答えなさい。




群馬県




a



b



c



d

先生：群馬県は鶴が大きく翼を広げて舞っているような形をしています。a～dの県はどのような形に見えますか。また、これらの県について知っていることがある人は教えてください。

生徒A：aの県の形は、OKサインをして腕を高く上げているように見えます。この県には兼六園があります。漆塗りの輪島塗も有名です。

生徒B：bの県の形は、左側を向いている人の横顔に見えます。この県には最上川が流れています。さくらんぼの生産が日本一の県です。

生徒C：cの県の形は、ブーメランのような形に見えます。この県の沖合はカツオの漁場となっています。和紙の生産も有名です。

生徒D：dの県の形は、クワガタ虫の頭のように見えます。この県にはシラス台地が広がっています。さつまいもの生産が日本一の県です。

ア 生徒A      イ 生徒B      ウ 生徒C      エ 生徒D

問2 下線部②に関連して、「四国三郎」とも呼ばれる、四国で2番目に長い川を何と言いますか。漢字で答えなさい。

問3 下線部③に関連して、次の祥子さんとある農家の会話を読み、農家がレタスを大量に廃棄する理由を  にあてはまるように2行以内で答えなさい。

祥子 : こんにちは。お仕事中に申し訳ありません。少しお話をうかがってもよろしいでしょうか。

農家 : こんにちは。大丈夫ですよ。

祥子 : ここにレタスが大量に捨ててありますね。このレタスは害虫にでもやられたのですか。

農家 : いいえ、<sup>ちが</sup>違います。大きかったり、小さかったりして、<sup>しゅっか</sup>出荷ができなかったというわけでもありません。農薬の安全基準も満たしており、品質上の問題はないレタスですよ。

祥子 : それでは、なぜ大量に捨ててあるのですか。

農家 :  です。  
だから、もったいないのですが、出荷するわけにはいかないのです。

祥子 : そうなのですね。

農家 : 長年農家をやっていますが、何度かこのような体験をしています。そのたびに心が痛みます。

祥子 : 勉強になりました。どうもありがとうございました。



廃棄されたレタス

問4 下線部④は、再生可能エネルギーによる発電の一つです。次の表1は、再生可能エネルギーによる日本の発電電力量の内訳（2018年度）を示したものであり、A～Cは、太陽光・地熱・風力のいずれかです。また、表2は、日本におけるA～Cの再生可能エネルギーによる発電の特徴をまとめたものです。A～Cと再生可能エネルギーの組み合わせとして正しいものを後のア～カから一つ選び、記号で答えなさい。

表1 再生可能エネルギーによる発電電力量の内訳

(単位：百万kWh)

		A	B	C
発電電力量		2,113	18,478	6,493
内訳	電気事業者	2,051	10,778	5,858
	自家用	62	7,701	635

(『日本国勢図会2020/21』より作成)

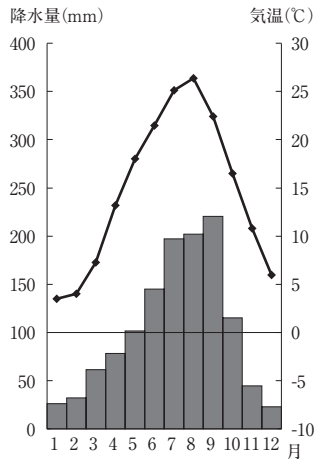
表2 再生可能エネルギーによる発電の特徴

	A	B	C
天気の <sup>えいきょう</sup> 影響	受けない	強く受ける	強く受ける
発電に適した場所	限られる	あまり限られない	限られる

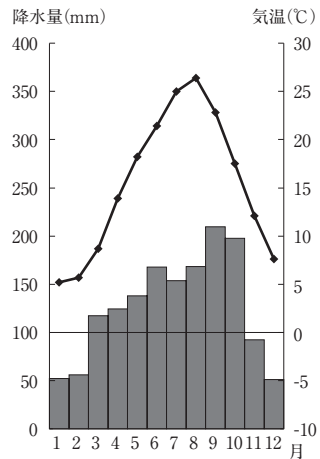
	A	B	C
ア	太陽光	地熱	風力
イ	太陽光	風力	地熱
ウ	地熱	太陽光	風力
エ	地熱	風力	太陽光
オ	風力	太陽光	地熱
カ	風力	地熱	太陽光

問5 下線部⑤に関連して、次の雨温図は、東京・長野・新潟・前橋のいずれかの都市のものです。前橋の雨温図として正しいものを次のア～エから一つ選び、記号で答えなさい。

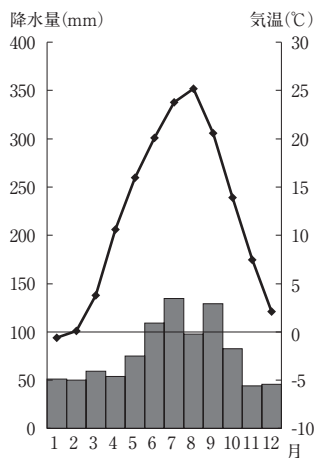
ア



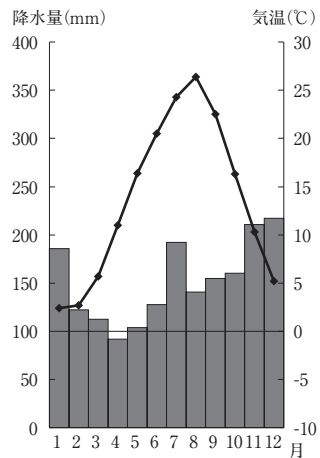
イ



ウ



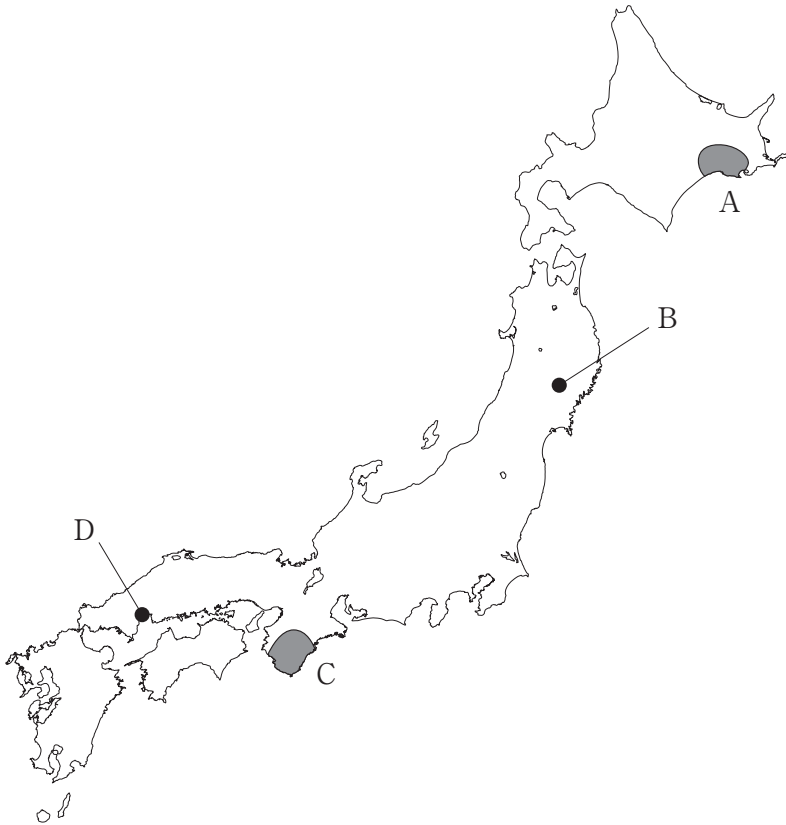
エ



(『理科年表 2020』より作成)

問6 下線部⑥にも適している、川が山地から平地に流れ出るところに形成される小石や砂が堆積してできた地形を何と言いますか。漢字3字で答えなさい。

問7 下線部⑦に関連して、次の地図中のA～Dについて述べた文として正しいものを後のア～エから一つ選び、記号で答えなさい。



- ア Aには、日本で最初の世界自然遺産に登録された地域がある。そこには、たんちょうの生息地として知られる湿原が広がっており、保存されている。
- イ Bには、400年ほど前につくられ、当時の姿がよく残されている城がある。その美しさから白鷺城しらさぎじょうとも呼ばれる城は、世界文化遺産に登録されている。
- ウ Cには、世界文化遺産に登録されている地域がある。そこには、昔から人々が信仰しんこうしてきた寺や神社などの霊場れいじょうがあり、参道とともに保存されている。
- エ Dには、金箔きんぱくが一面にはられたお堂で有名な寺がある。今から800～900年ほど前に栄えた、この寺を中心とする地域は、世界文化遺産に登録されている。

問8 下線部⑧に関連して、次の表は、キャベツ・小麦・なす・ねぎのいずれかの生産量上位5位（2018年）の都道府県とその割合を示したものです。ねぎにあてはまるものとして正しいものを次のア～エから一つ選び、記号で答えなさい。

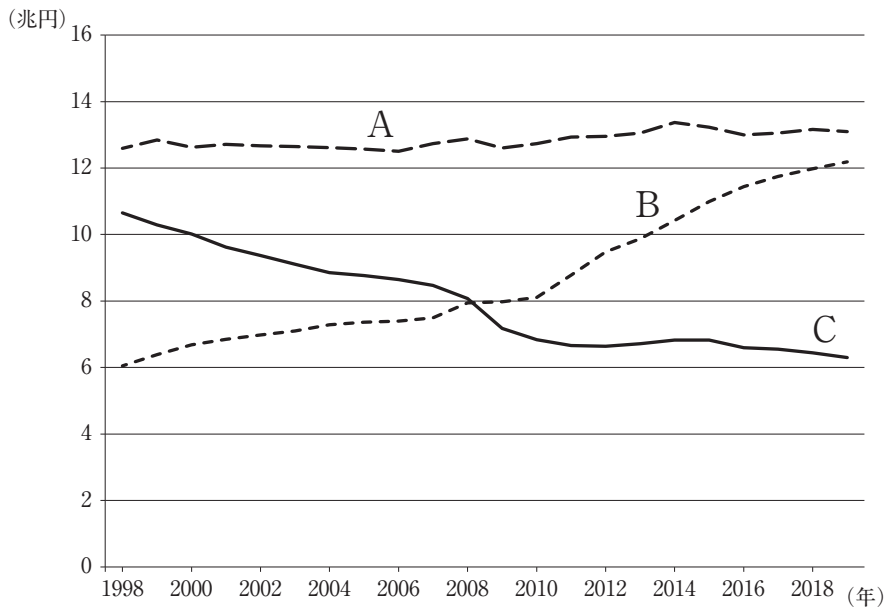
(単位：%)

	1位	2位	3位	4位	5位
ア	高知県 13.1	熊本県 10.6	群馬県 8.6	福岡県 7.0	茨城県 5.5
イ	千葉県 13.8	埼玉県 12.3	茨城県 11.0	群馬県 4.3	北海道 4.3
ウ	北海道 61.6	福岡県 7.2	佐賀県 4.8	群馬県 3.0	愛知県 3.0
エ	群馬県 18.8	愛知県 16.7	千葉県 8.5	茨城県 7.5	鹿児島県 5.2

(『データでみる県勢2020年版』より作成)

問9 空らん  にあてはまる食品を答えなさい。

問10 下線部⑩に関連して、次のグラフ中のA～Cは、コンビニエンスストア・スーパーマーケット・百貨店のいずれかの販売額はんばいがくの推移を示したものです。A～Cと事業形態の組み合わせとして正しいものを後のア～カから一つ選び、記号で答えなさい。



(経済産業省「商業動態統計」より作成)

	A	B	C
ア	コンビニエンスストア	スーパーマーケット	百貨店
イ	コンビニエンスストア	百貨店	スーパーマーケット
ウ	スーパーマーケット	コンビニエンスストア	百貨店
エ	スーパーマーケット	百貨店	コンビニエンスストア
オ	百貨店	コンビニエンスストア	スーパーマーケット
カ	百貨店	スーパーマーケット	コンビニエンスストア

問11 下線部⑩に関連して、日本の人口や人口問題について述べた文として正しいものを次のア～エから一つ選び、記号で答えなさい。

- ア 日本の産業別人口の構成は、かつては第一次産業で働く人の割合がもっとも多かったが、現在は第二次産業で働く人の割合がもっとも多い。
- イ 高度経済成長期に、農村や漁村から多くの人々が都市に移り住み、現在、日本の面積の半分以上の地域が過疎地域に指定されている。
- ウ 近年、東京都の都心部の地価は下落しており、東京都から千葉県や埼玉県に移り住む人が増加するドーナツ化現象が生じている。
- エ 現在日本の人口は、およそ1億2500万人で、世界で3番目に多い。また、日本の人口密度は、アメリカ合衆国と比較すると低い。

問12 波線部㉔に関連して、長年の建設をめぐる議論を経て、2020年3月に吾妻川<sup>あがつまがわ</sup>の中流域に完成したダムとして正しいものを次のア～エから一つ選び、記号で答えなさい。

- ア <sup>おごうち</sup>小河内ダム
- イ 黒部ダム
- ウ <sup>やぎさわ</sup>矢木沢ダム
- エ <sup>やんぼ</sup>八ッ場ダム

問13 波線部㉖がさかんな時代には、桑畑が広がる地域も多く、地域の特徴となっていたため、桑畑を示す図1の地図記号がありました。しかし、今では桑畑が少なくなったため、2万5000分の1地形図の平成25（2013）年図式から、この地図記号は廃止<sup>はいし</sup>されました。一方で、社会的な重要度が高まったため、2019年には図2の地図記号が新しく付け加わりました。図2の地図記号が示すものとして正しいものを後のア～エから一つ選び、記号で答えなさい。



図1



図2

- ア 若者たちに文化を継承<sup>けいしょう</sup>するための有名な歌碑<sup>かひ</sup>や句碑がある場所。
- イ 災害の歴史を次世代に伝えるための自然災害伝承碑がある場所。
- ウ 外国人観光客の増加に対応して増えている宿泊施設<sup>しゅくはくしせつ</sup>がある場所。
- エ 高齢者の増加に対応して増えている老人ホームがある場所。



問14 波線部㉔に関連して述べた文として正しいものを次のア～エから一つ選び、記号で答えなさい。

- ア 中国との貿易（2019年）では、日本は輸出額よりも日本の輸入額の方が多い。
- イ 石炭と鉄鉱石について、日本の最大の輸入相手国（2019年）は中国である。
- ウ 中国の船舶竣工量（2018年）は、日本に次いで第2位である。
- エ 中国は竹島の領有権を主張して、竹島に警備隊を置いている。

問15 波線部㉕に関連して、群馬県に位置し、製造品出荷額等のおよそ7割を輸送用機械器具が占める、自動車工業がさかんな都市として正しいものを次のア～エから一つ選び、記号で答えなさい。

- ア 太田市      イ 君津市      ウ 高崎市      エ 日立市

### 3

次の会話文は中学生の祥子さんと先生が2020年9月に話した内容です。これを読んで、後の問いに答えなさい。

祥子：2020年9月16日に①臨時国会が召集されて、わずか数日で閉会しました。2020年7月に野党が召集を要求した際には、内閣は早期召集に応じないと報道されていましたが、②憲法に規定があるのに、応じなくて良かったのでしょうか。

先生：憲法に明記されている以上、召集はしなければなりません。ただし、要求から召集までの期限は憲法に規定がありません。だから召集が数ヶ月後になっても憲法違反ではないというのが内閣の考えです。

祥子：でも、野党は今すぐ必要と考えて召集を要求したはずです。引きのばされて納得できなかつたのではないのでしょうか。

先生：納得はしていないでしょうね。実際に過去に似たようなことがあり、野党議員は裁判を起こしています。2017年に野党が臨時国会の召集を要求した際に、内閣は3か月以上国会を召集しませんでした。これを野党議員は憲法違反だと訴えています。

祥子：これが許されるとしたら、事実上、臨時国会は内閣が召集したい時しか開けないことになります。内閣が国会をコントロールしているようで、三権分立に反する気がします。裁判で内閣はどう説明しているのですか。

先生：臨時国会の召集時期は内閣が決めるものだとしています。また、国会の召集にかかわるような高度に政治的な行為が違憲かどうかは、③裁判所が審査すべきではないと主張しています。高度に政治的な行為とは、国の政治の根本にかかわるような行為のことで、これを「統治行為」と言います。統治行為についての判断は、国民に④選挙で選ばれた議員からなる国会と、国会の信任にもとづいて成立する内閣に任せるべきで、裁判所が審査できる問題ではないと内閣は考えているのです。このような考え方を統治行為論と言います。

祥子：国会と内閣の政治的行為を裁判所が審査できないとしたら、違憲審査権の意味がないように思えます。裁判所は統治行為論を受け入れているのですか。

先生：2017年の召集に関する裁判では今のところ受け入れていません。2020年6月に那覇地裁は、内閣は臨時国会の召集が要求されてから、合理的期間内に召集する義務があるという判断を示しました。でも過去には裁判所が統治行為論を示したことがあります。内閣不信任決議なしの⑤衆議院解散が憲法違反にあたるかどうか問われた裁判で、1960年に最高裁判所は統治行為論を理由に違憲性を判断しませんでした。

祥子：衆議院解散をめぐる過去にそんな論争があったとは意外です。⑥実際に内閣不信任案が可決された例は少ないですし、解散総選挙はそれとは関係なく行わ

れる場合の方が多いですね。他にも統治行為論が用いられたことはあるのですか。

先生：日米安全保障条約が⑦憲法第9条に違反するかどうかが問われた裁判で、1959年に最高裁判所が採用したと言われています。

祥子：高度に政治的なことは国会や内閣に任せるべきと言いますが、国会や内閣は多数派の意見で動きます。少数派や⑧社会的に弱い立場の人たちの権利を守るのが裁判所の役割なのではないでしょうか。

先生：それも大切な視点です。ただ、裁判所は国民に選ばれた代表ではありません。政治の問題は国民の代表が決定し、最終的には主権者である国民の判断にゆだねるべきだと考えられます。統治行為論は⑨アメリカやフランスなどの⑩外国でも採用されることがあります。どんな場合に政治家に任せ、どんな場合に司法が介入するのか、統治行為論は慎重な運用しんちようが求められていると言えるでしょう。

問1 下線部①に関連して、国会の種類について述べた文として正しいものを次のア～エから一つ選び、記号で答えなさい。

ア 臨時国会は、いずれかの議院の総議員の3分の1以上の要求があれば内閣はその召集を決定しなければならないと憲法に明記されている。

イ 通常国会は必ず毎年1回召集されて次年度の予算を審議することになっており、会期は150日で延長することはない。

ウ 特別国会は、衆議院の解散後に行われる衆議院議員総選挙から30日以内に召集され、冒頭ぼうとうで内閣が総辞職する。

エ 参議院の緊急集会は、衆議院の解散中に緊急の必要がある際に、参議院の議長じっしの判断で実施されることになっている。

問2 下線部②について、日本国憲法に規定されている基本的人権の内容やその解釈<sup>かいしやく</sup>について述べた文として正しくないものを次のア～エから一つ選び、記号で答えなさい。

- ア 生命、自由、幸福追求に対する国民の権利は最大限の尊重を必要とするが、公共の福祉に反する場合には制限されることがある。
- イ 国やその機関は、宗教教育その他いかなる宗教活動もしてはならないが、国会議員や国務大臣が特定の信仰を持つことは許されている。
- ウ 労働者には労働条件の改善を使用者に要求する権利が認められており、その一つがストライキなどを行う団体行動権である。
- エ 裁判所で公平な裁判を受けるのは国民固有の権利なので、外国人は日本で裁判に訴えることはできない。

問3 下線部③について、現在の日本の裁判所について述べた文として正しいものを次のア～エから一つ選び、記号で答えなさい。

- ア 国民が裁判官を直接選ぶことはないが、最高裁判所の長官だけは10年おきに国民審査が行われ、国民の投票<sup>や</sup>によって辞めさせることができる。
- イ 裁判官は自己の良心に従い、国会や内閣などの他の権力から独立して裁判を行わなければならないが、憲法と法律<sup>こうそく</sup>にのみ拘束される。
- ウ 基本的人権を確実に守るために三審制を採用しており、全ての裁判は最終的に最高裁判所で審理される。
- エ 民事裁判の第一審では裁判員裁判が実施されており、裁判官と裁判員<sup>いっしょ</sup>が一緒に有罪か無罪かを決め、さらに有罪の場合の刑罰を決めている。

問4 下線部④に関連して、衆議院議員選挙の比例代表制と参議院議員選挙の比例代表制は、立候補<sup>ちが</sup>の届け出の際に政党がすべての候補者の当選順位を決めているかどうか<sup>ちが</sup>が違います。参議院議員選挙で採用されている制度を何といいますか。漢字で答えなさい。

問5 下線部⑤は憲法第7条に基づいて、内閣の助言と承認によって天皇が行うものです。このように、憲法第7条に定められている天皇の形式的・儀礼的<sup>ぎれいてき</sup>な仕事を何といいますか。漢字で答えなさい。

問6 下線部⑥について、内閣不信任案が可決された例が少ない理由を、国会と内閣の関係<sup>わく</sup>をふまえて解答<sup>た</sup>らんの枠内で説明しなさい。

問7 下線部⑦に関連して、日本の平和主義や自衛隊と安全保障政策について述べた文として正しくないものを次のア～エから一つ選び、記号で答えなさい。

- ア 自衛隊はもともと他国からの攻撃こうげきに備えてつくられたが、1992年に初めてカンボジアに派遣はけんされて以来、外国でPKO活動に参加するようになった。
- イ 日本の周辺で起こった戦争にアメリカ軍が出動した場合でも、日本が直接の攻撃を受けなければ自衛隊が出動することは想定されていない。
- ウ 憲法には、戦争、武力による威嚇、武力の行使、陸海空軍その他の戦力の保持、交戦権の全てを禁止すると明記されている。
- エ 唯一ゆいいつの戦争被爆国として核兵器はいぜつの廃絶を目指してはいるが、核兵器禁止条約を批准していない。

問8 下線部⑧との貿易について述べた文として正しくないものを次のア～エから一つ選び、記号で答えなさい。

- ア 国内の産業を保護するために、輸入品に高い関税をかけて外国製品を国内で売りにくくする貿易を保護貿易という。
- イ 貿易の自由化を進める国連の専門機関がWTOであり、関税の引き下げなど貿易の制限を減らすための協議を行っている。
- ウ 特定の国や地域の間で独自に貿易に関する協定を結ぶことがあり、日本は複数の国と経済連携協定を結んでいる。
- エ 高度経済成長期にはアメリカとの間で貿易摩擦がたびたび発生し、中でも1950年代には日本からアメリカへの自動車輸出をめぐる激しい貿易摩擦が生じた。

問9 波線部⑨の生活を保障するために社会保障制度があります。現在の日本の社会保障制度について述べた文として正しいものを次のア～エから一つ選び、記号で答えなさい。

- ア 保護者のいない子どもを保護する児童養護施設は、公的扶助に分類される。
- イ 65歳以上になったら支給される年金は、社会福祉に分類される。
- ウ 生命保険や損害保険は社会保険に分類される。
- エ 保健所が行う伝染病対策でんせんびょうは、公衆衛生に分類される。

問10 波線部⑩の政治のしくみについて述べた文として正しいものを次のア～エから一つ選び、記号で答えなさい。

- ア 行政府の長は大統領であり、大統領が首相を任命する。
- イ 大統領官邸であるホワイトハウスはニューヨークにある。
- ウ 大統領選挙は5年おきに行われる。
- エ 共和党と民主党の二大政党制となっている。

問題は以上です



# 2021年度 入学試験解答用紙〔社会〕(35分)

第2回 2月2日実施 吉祥女子中学校

1

問1		問2		問3				
問4			問5		問6			
問7		問8		問9		問10		
問11								
問12		問13		問14		問15		

2

問1		問2				
問3						
問4		問5		問6		
問7		問8		問9		
問10		問11				

問12	問13	問14	問15	

3

問1		問2		問3		
問4			問5			
問6						
問7		問8				
問9		問10				

受験番号	氏名	得点