

2022年度入学試験問題

社 会

(35分)

第1回 2月1日実施

[注意] 解答はすべて解答用紙に記入しなさい。
問題用紙も提出しなさい。

吉祥女子中学校

1

次の文章を読んで、後の問いに答えなさい。

日本では長い間、身分が存在していて、一部の身分の人々による支配が続きました。彼らの中にも序列があり、時代によってさまざまに変化してきました。その変化に注目しながら、日本の歴史をふり返ってみましょう。

身分の差はすでに原始時代にも存在していたことが知られ、例えば①墓のあり方から、葬られた人がその集団においてどのような立場であったかが推測できます。ヤマト政権では大王家と血縁関係のある豪族などが高い地位につきました。大化の改新以降は、大王（天皇）への権力集中を目指す動きが本格化します。そして完成した律令によって、位階という序列が定められ、豪族は位階に応じた役職につく官僚になりました。しかし、こうした官僚の多くはある程度までしか昇進を望めず、上級貴族の②藤原氏が重要な役職を占めるようになっていきました。一方、③中下級の貴族で国司として地方に下る者の中に、任期を終えてもその地にとどまり、地方豪族などを従えて武士となる者が現れてきました。例えば、その子孫の④は武力を用いて関東各地の国司の役所を襲い、自らを「新皇」とするなど、朝廷に対する反乱を起こして衝撃を与えました。その後、武士は公的な役職に任じられたり、朝廷で昇進していったりすることにより、従来の貴族中心の序列に入りこんでいきました。

源氏によって開かれた⑤武士の政権は、まもなく北条氏に実権が移りました。本来は、一御家人であるはずの北条氏の実権を握り、北条氏以外の御家人はその待遇の差に不満を強めていきました。次に成立した武士政権では、将軍足利義満が有力守護家内部の争いに介入して、将軍の権力が大きくなりました。しかし、⑥応仁の乱以降は、将軍に各地の争いを仲裁する力はなく、全国で騒乱が続きました。こうして突入した戦国時代は、これまでの序列が通用しない下剋上の世と言えます。例えば織田信長は正式な守護にも任じられたことがありませんでしたが、⑦長篠の戦いの後、朝廷から高い位階と官職を与えられました。しかし信長は早々に辞職しています。信長にとって、朝廷での昇進はもはや重要な意味を持たなかったのです。

その後成立した江戸幕府は、独自のしくみを発達させ、長期間にわたって続くことになる武士の政権です。⑧江戸幕府のしくみは、将軍徳川家光のころに整い、譜代大名を中心とするものになりました。武士の中に新たな序列が生じたと言えます。⑨18世紀後半以降には、外交問題が起こり、それに対応するための役職が置かれていきました。開国後は、混乱の中で外様大名も幕府の政治に深く関わるようになり、幕府における武士の序列は通用しなくなりました。

明治時代になると、武士という身分の特権は失われました。このころに出版された⑩『学問のすゝめ』は、武士に特権を認める従来の身分秩序や主従関係を否定し、人々に学問の重要性を訴えたもので、広く読まれました。⑪明治時代の憲法でも、誰でも

平等に官僚や軍人になる権利があると定められるなど、身分や出身による差を解消しようとする動きが見られました。しかし、特権をもつ華族という身分はまだ存在していました。また、政府では薩摩藩や長州藩出身者が重要な役職を占めるなど、出身による差がはっきりと見られましたし、⑫地方の農村では農民の間に江戸時代以来の差が残っていました。⑬大正期から昭和初期には、経済発展と教育の普及が進み、都市部を中心に「新中間層」と呼ばれる豊かな人々が増えました。しかし恐慌も相次ぎ、⑭満州事変以降には軍部が台頭して戦時統制が強まっていくなど、人々はそれまでの日常生活を失っていきました。

戦後の日本は、「法の下での平等」をうたう新たな憲法で華族などの身分が撤廃されて、格差や不公平は改めて解消すべきものとなりました。そして日本は、復興を急速に進め、⑮高度経済成長期をむかえると「一億総中流社会」という言葉も生まれました。ところが、それも長くは続かず1990年代のバブル崩壊後の長期不況の中、個人間の所得の差が拡大していき、「中流崩壊」や「格差社会」という言葉が聞かれるようになりました。現在、こうした格差を解消するために、社会保障の充実や教育の機会均等など、幅広い対策が求められています。

問1 下線部①に関連して、原始時代の日本での埋葬について述べた文として正しいものを次のア～エから一つ選び、記号で答えなさい。

- ア 縄文時代の墓から、首のない人骨や矢じりのささったままの人骨が足を伸ばした状態で発見された。
- イ 縄文時代には、円筒形の埴輪や、動物、人物、家などをかたどった埴輪が周囲にめぐらされた状態で葬られている人骨もあった。
- ウ 弥生時代の墓から、土製の棺の中に銅鏡や青銅製の武器とともに埋葬された人骨が発見された。
- エ 弥生時代は、貝がらや動物の骨、壊れた土器などとともに貝塚に葬られている人骨がほとんどだった。

問2 下線部②について述べた次のA～Cの文を時期の古いものから順に並べかえるとどうなりますか。正しいものを後のア～カから一つ選び、記号で答えなさい。

- A 藤原頼通は、平等院鳳凰堂を建立した。
- B 藤原時平は、対立した菅原道真を大宰府に左遷した。
- C 藤原清河は、阿倍仲麻呂とともに唐から帰国しようとしたが、失敗した。

- ア A→B→C イ A→C→B ウ B→A→C
- エ B→C→A オ C→A→B カ C→B→A

問3 下線部③の一人に「貧窮問答歌」の作者がいます。この人物として正しいものを次のア～エから一つ選び、記号で答えなさい。

ア 紀貫之 イ 山上憶良 ウ 源義家 エ 坂上田村麻呂

問4 空らん にあてはまる人物を漢字で答えなさい。

問5 下線部⑤に関連して、鎌倉時代と室町時代の武士の政権について述べた文として正しいものを次のア～エから一つ選び、記号で答えなさい。

ア 源頼朝は、鎌倉に政所や侍所、問注所などを置き、国ごとに守護を置いた。守護には主に有力な御家人を任命した。

イ 北条泰時は、武士として初めて法律を定めた。この法は、武士の慣習などをまとめたもので、京都の天皇や貴族にも守ることが強要された。

ウ 足利尊氏は、新田義貞とともに鎌倉幕府を滅ぼした。その後、鎌倉幕府によって大和国の吉野に流されていた後醍醐天皇を救出した。

エ 足利義満は、日本各地の金山を直接支配した。そこから得た大量の金を使用して、京都に金閣を建てたり、全国に流通する金貨を^{ちゅうどう}鑄造したりした。

問6 下線部⑥の社会の様子について述べた文として正しくないものを次のア～エから一つ選び、記号で答えなさい。

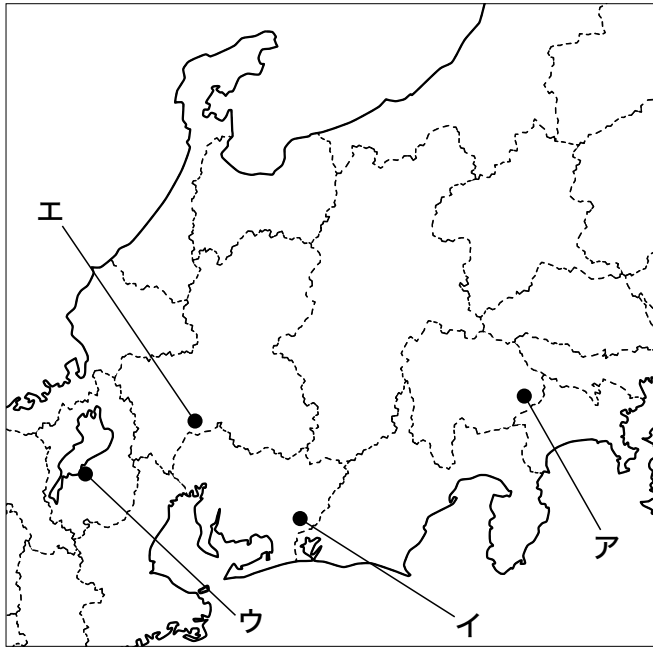
ア 日本国内で綿花が本格的に栽培されるようになり、それまで朝鮮からの輸入に^{たよ}頼っていた木綿の国内生産が進み、いっそう広く普及した。

イ 交通の便の良い港や、寺社の門前などで、初めて定期市が見られるようになった。こうした市は月に3回開かれるものが^{いっばんてき}一般的で、取引には^{かへい}貨幣が使用された。

ウ 加賀国で、一向宗信者を中心とする一揆が起きた。この一揆でこの国の守護が自害に追いこまれ、信者たちによる自治が行われることになった。

エ フランシスコ・ザビエルが鹿^{とうちやく}児島に到着し、日本にキリスト教を伝えた。これ以降、イエズス会の宣教師が^{とうちやく}つぎつぎと来日した。

問7 下線部⑦の発生した場所として正しいものを次の地図中のア～エから一つ選び、記号で答えなさい。



※ 都府県境は現在のものです。

問8 下線部⑧について、江戸幕府において、将軍の下で町奉行や勘定奉行などを指揮し、常に幕府の政治全体を取りしきっていた役職を漢字で答えなさい。

問9 下線部⑨について、18世紀後半以降の外交問題について述べた次のA～Cの文を時期の古いものから順に並べかえるとどうなりますか。正しいものを後のア～カから一つ選び、記号で答えなさい。

- A 海岸防備を強化するため、幕府は江戸湾に台場を築いた。
- B ロシアからラクスマンが根室に来航し、通商を要求した。
- C アヘン戦争の結果を受け、幕府は異国船打払令^{てっかい}を撤回した。

- | | | | | | |
|---|-------|---|-------|---|-------|
| ア | A→B→C | イ | A→C→B | ウ | B→A→C |
| エ | B→C→A | オ | C→A→B | カ | C→B→A |

問10 下線部⑩を著した福沢諭吉のように、海外に渡航した経験のある人物について述べた文として正しいものを次のア～エから一つ選び、記号で答えなさい。

- ア 洪沢栄一はヨーロッパで教育制度を学び、帰国後に東京専門学校を創立した。
- イ 伊藤博文はドイツで憲法などについて学び、帰国後に自由党を結成した。
- ウ 津田梅子は幼くしてアメリカに留学し、帰国後は女性の教育に尽力した。
- エ 北里柴三郎はアフリカでの黄熱病の研究中、自身も感染して命を落とした。

問11 下線部⑪の内容として正しいものを次のア～エから一つ選び、記号で答えなさい。

- ア 天皇は神聖で侵すことのできない国の元首であって、統治権を総攬し、憲法の条規によってこれを行行使する。
- イ すべて司法権は、最高裁判所と法律によって定められる裁判所に属し、裁判官はその良心に従い独立してその職務を行う。
- ウ 集会、結社、言論、出版など、すべての表現の自由を保障する。検閲はしてはならない。
- エ 議会は二つの議院で構成する。両議院は、全国で実施する選挙によって当選した議員で組織する。

問12 下線部⑫について、江戸時代後期の農村では、凶作などにより困窮した農民が増える一方、彼らから多くの土地を得た豊かな農民が成長していき、農民間の差が広がりました。こうした差は明治政府の政策によって解消されるどころか、むしろ豊かな農民はさらに土地を得て力を伸ばすことができるようになりました。その一つのきっかけとなった明治政府の土地に関する改革がどのようなものか、2行以内で説明しなさい。その際、「地券」という語句を必ず使用しなさい。

問13 下線部⑬について、大正期から昭和初期の経済発展に関連して述べた文として正しいものを次のア～エから一つ選び、記号で答えなさい。

- ア 八幡製鉄所が操業を開始し、中国から輸入した鉄鉱石と筑豊炭田の石炭などを利用して、大量に鉄鋼を生産した。
- イ 経営者の利益が優先される中、低賃金で長時間働かされた工場労働者たちは、日本初の労働組合を結成して、労働争議を起こすようになった。
- ウ 中国やアメリカ向けの輸出が増え、製鉄業をはじめとする重化学工業や海運業を中心に発展し、工業生産額が農業生産額を初めて上回った。
- エ 紡績業や製糸業を中心に発展した。特に、綿糸は国産の原料を用いて生産を伸ばし、生産額と輸出額がともに初めて世界一になった。

問14 下線部⑭のできごととして正しくないものを次のア～エから一つ選び、記号で答えなさい。

ア 国家総動員法が制定された。

イ 日本が国際連盟を脱退した。

ウ 陸軍の青年将校が中心となって二・二六事件を起こした。

エ 与謝野晶子が反戦的な詩「君死にたまふことなかれ」を発表した。

問15 下線部⑮に池田勇人内閣が発表した計画によって国民生活の向上がはかられ、経済成長がさらに進みました。この計画は何と呼ばれるものですか。解答らんに合うように漢字4字で答えなさい。

2

次の会話文は吉祥女子中学校の先生と生徒たちが2021年9月に話した内容です。これを読んで、後の問いに答えなさい。

先生：みなさんは国立公園に行ったことはあるでしょうか。

生徒A：親戚しんせきの家に泊まったときに連れて行ってもらった尾瀬おぜは、たしか国立公園だったと思います。

先生：そうですね。①尾瀬国立公園は、②東京都ひかくてきから比較的近い国立公園の一つです。尾瀬は湿原が有名ですが、公園の範囲には③ぶなの原生林ほんいが広がる会津駒ヶ岳こまがたけも含まれています。地図帳で位置かくにんを確認してみてください。また、他にも国立公園はないか探してみましよう。

生徒B：関東地方を中心に描えがいたページだけでも、日光、秩父多摩甲斐、富士箱根伊豆、上信越高原などの国立公園がありました。

先生：たくさん見つかりましたね。上信越高原国立公園の中には④温泉やスキー場があり、私も行ったことがありますよ。⑤山梨県にある吉祥女子中学校の富士吉田キャンパスも富士箱根伊豆国立公園の中にあるんですよ。

生徒C：えっ、そうなんですか。驚おどろきました。でも、どうして国立公園の中に私立学校のキャンパスがあるのですか。

先生：もともと国有地や私有地が入り組んでいた土地の所有の状態はそのままにして、後から法律で公園の範囲を決めるしくみが採用されたからです。日本で国立公園法が制定されたのは1931年のことでした。だから、公園内には私有地も含まれており、⑥野菜や果物を栽培したり、⑦家畜かちくを飼育したりしているところもあります。⑧工業が行われているところでは、例えば、自然の恵みめぐをいかして、ミネラルウォーターを生産する工場が立地していますよ。また、公園内の⑨河川や海では⑩漁業が行われているところもあります。

生徒A：公園内で生産活動を行うことで、⑪環境問題は発生しないのでしょうか。

先生：たしかに、経済活動と環境保全の両立は難しいテーマですよ。そもそも、国立公園には自然を守り、後世に伝えるという目的がありますから、その環境を守るために通常より厳しい規制があります。また、国立公園内もいくつかの区域に分けられており、区域ごとに規制にちがいががあります。まず、国立公園の土地は大きく特別地域と普通地域ふつうに分けられています。特別地域では、⑫森林ぼっさいを伐採する場合にも国の許可が必要です。中でも一番規制が厳しい特別保護地区では、あるがままの自然を守るために、たき火をしたり、落ち葉を拾ったりすることでさえ許可が必要なんですよ。

生徒B：落ち葉を拾うのに許可がいるなんて、とても厳しい規制があるんですね。

先生：そうなんですよ。ちなみに、富士吉田キャンパスが位置しているのは、普

通地域です。普通地域では、大きな⑬建物を建設する際などには規制があり、建物の高さを周辺の木々の高さより低くおさえたり、環境にやさしい⑭をエネルギー源に使用したりして、景観や自然環境に配慮はいりよをしている例が多く見られますよ。

生徒C：さまざまな工夫くふうをして、景観や自然環境を守ろうとしているのですね。

先生：なお、1957年に国立公園法は自然公園法に変わり、国立公園、国定公園、都道府県立自然公園という3種類の公園体系が整えられました。そのうち国立公園は、国が指定し直接管理するものです。現在、日本には34カ所の国立公園があり、その面積は219万haを超え、国土面積の約5.8%を占めています。では、⑮興味を持った国立公園の自然環境などを詳しく調べてみましょう。

問1 下線部①は、群馬県、栃木県、新潟県、福島県に広がっています。この4県のいずれかについて述べた文のうち、福島県について述べたものを次のア～エから一つ選び、記号で答えなさい。

- ア この県では、県の北部の盆地などで果物の栽培がさかんであり、ももの生産量は全国2位である。県の中央にある湖の水は農業用水などに利用されている。
- イ この県では、県の西部の高原などで葉物野菜の栽培がさかんであり、キャベツの生産量は全国1位である。冬に、からっ風が吹き下ろすことで有名な県である。
- ウ この県では、県の北部の高原などで乳用牛の飼育がさかんであり、生乳生産量は全国2位である。県の西部にある湖や滝は有名な観光地となっている。
- エ この県では、県の北部の平野などで米づくりがさかんであり、米の生産量は全国1位である。冬は山沿いを中心に豪雪地帯こうせつであることが有名な県である。

問2 下線部②について述べた文のうち、波線部が正しくないものを次のア～エから一つ選び、記号で答えなさい。

- ア 人口(2019年)は1300万人を超え、日本の人口の1割以上を占める。
- イ 昼夜間人口比率(2015年)は、100を超えている。
- ウ 産業別の有業者割合(2017年)は、第二次産業の割合がもっとも高い。
- エ 65歳以上の人口の割合(2019年)は23.1%で、全国平均を下回る。

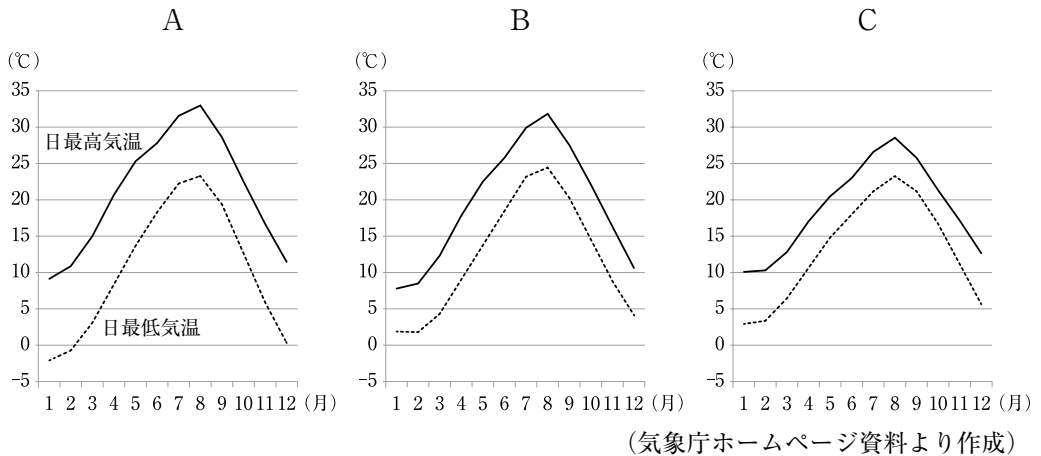
問3 下線部③が広がる、青森県と秋田県にまたがる世界自然遺産を何と言いますか。漢字で答えなさい。

問4 下線部④で有名な神奈川県箱根町の伝統的工芸品として正しいものを次のア～エから一つ選び、記号で答えなさい。

- ア 有田焼 イ 置賜紬 ウ 曲げわっぱ エ 寄木細工

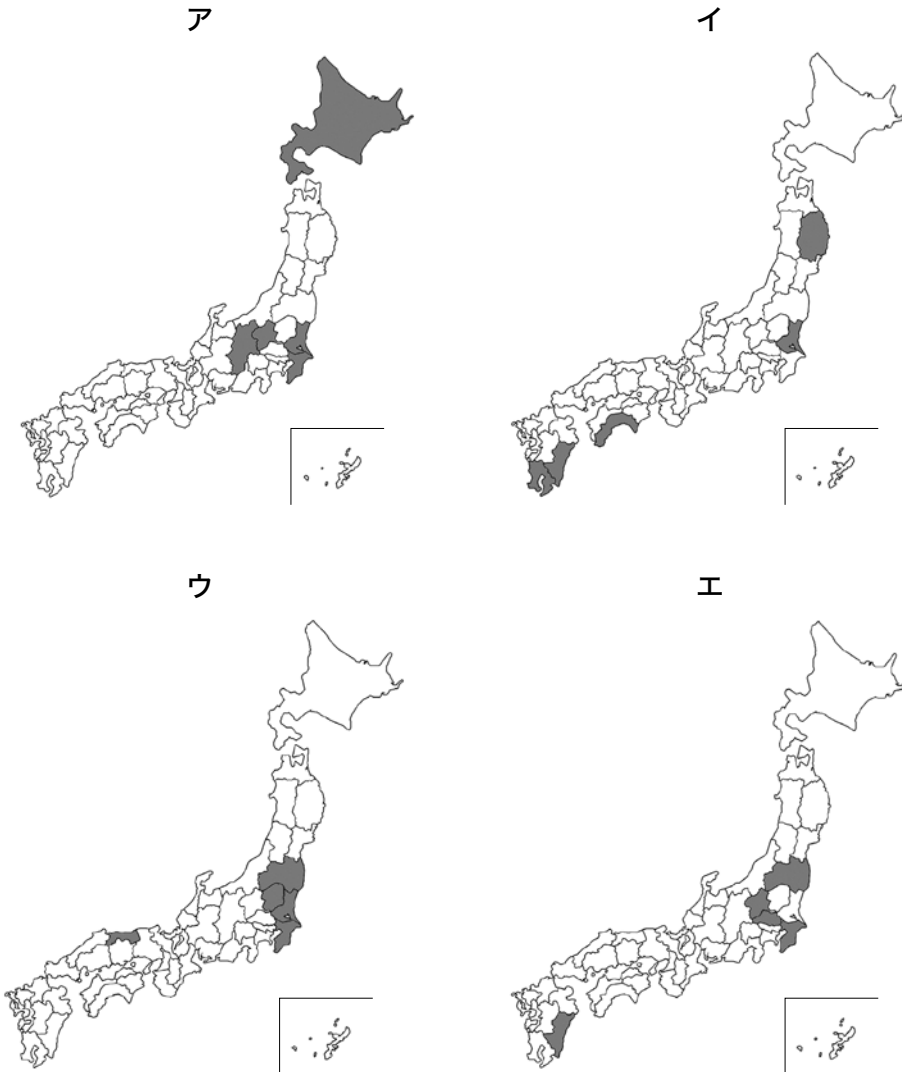
問5 下線部⑤に関連して、次のグラフA～Cは、後の地図に示した山梨県の甲府、
 千葉県の銚子、福井県の敦賀のいずれかの地点における、日最高気温および
 日最低気温の月別平年値(*)を示したものです。A～Cと地点の組み合わせと
 して正しいものを下のア～カから一つ選び、記号で答えなさい。

※ 1日の最高気温と1日の最低気温について、各月ごとに平均値を求めた数値。なお、こ
 こでは1991年から2020年の平均値です。



	A	B	C
ア	甲府	銚子	敦賀
イ	甲府	敦賀	銚子
ウ	銚子	甲府	敦賀
エ	銚子	敦賀	甲府
オ	敦賀	甲府	銚子
カ	敦賀	銚子	甲府

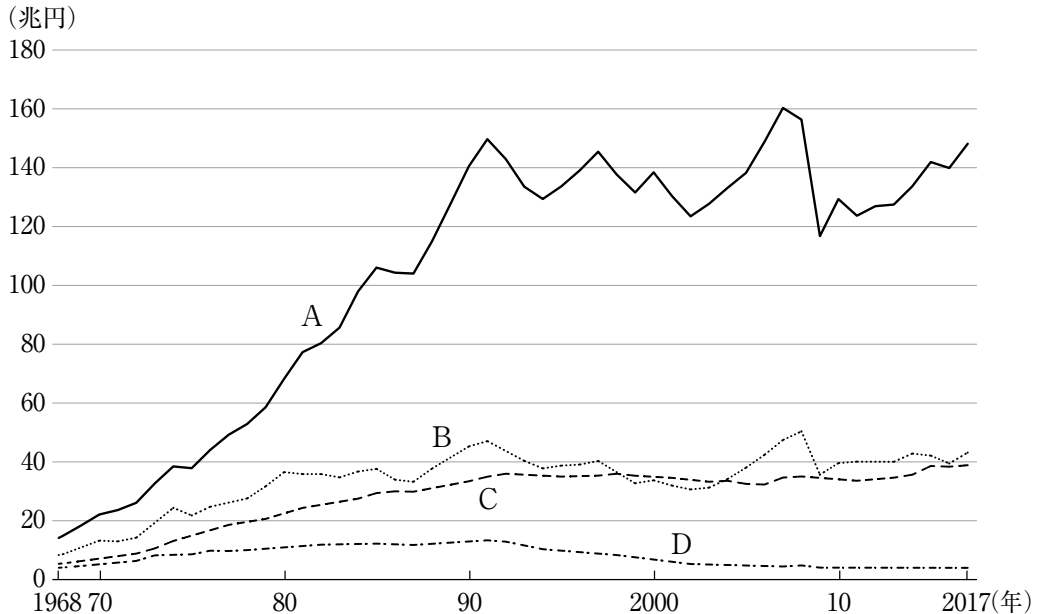
問6 下線部⑥に関連して、次の地図は、きゅうり、スイートコーン、日本なし、ピーマンのいずれかの生産量上位5位（2019年）の都道府県を示したものです。きゅうりの生産量上位5位を示したものとして正しいものを次のア～エから一つ選び、記号で答えなさい。



（『データでみる県勢2021年版』より作成）

問7 下線部⑦に関連して、家畜がどこで、どのようなえさ^{あた}を与えられて育てられ、どこで加工されたのかなどを追跡可能な状態^{ついせき}にして記録するしくみを何と言いますか。カタカナで答えなさい。

問8 下線部⑧に関連して、次のグラフは、1968年から2017年までの日本のおもな工業の産業別製造品出荷額等を示したものであり、A・Bは、機械工業または金属工業のいずれか、C・Dは、食料品工業または繊維工業のいずれかです。機械工業と食料品工業を示したものの組み合わせとして正しいものを後のア～エから一つ選び、記号で答えなさい。



(『数字でみる日本の100年 (改訂第7版)』より作成)

ア AとC イ AとD ウ BとC エ BとD

問9 下線部⑨について述べた文として正しいものを次のア～エから一つ選び、記号で答えなさい。

ア 日本三大急流の一つである筑後川は、たみ表の原料となるい草の生産がさかんな八代平野を流れ、有明海に注いでいる。

イ 四国山地から流れ出る四万十川は、「日本最後の清流」と言われており、その一部は香川用水によって讃岐平野に引かれている。

ウ 諏訪湖を水源とする天竜川は、木曾山脈と赤石山脈の間を流れ、うなぎの養殖が有名な浜名湖の東側で太平洋に注いでいる。

エ 奥羽山脈や北上高地の山々から水を集めた北上川は、稲作がさかんな庄内平野を流れ、男鹿半島の南側で日本海に注いでいる。

問10 下線部⑩について述べた文として正しいものを次のア～エから一つ選び、記号で答えなさい。

- ア 大陸棚が広がる長崎県の沖合いは、赤潮が頻繁に発生するため良い漁場とは言えず、長崎県の漁業生産量は全国でも低い水準にある。
- イ 石油危機や排他的経済水域の設定により遠洋漁業が衰退した結果、日本の漁獲量は1970年代の半ばをピークに減少傾向にある。
- ウ 近年「育てる漁業」の重要度が増しており、愛媛県の宇和海でのほたて貝の養殖や青森県の陸奥湾でのマダイや真珠の養殖などが有名である。
- エ 上流に豊かな森林がある川が流れこむ海では、水産物が良く育つため、漁業や養殖業を営む人々が植林活動を行い森林を保護している例がある。

問11 下線部⑪に関連して、激しいぜんそくの発作が起きるといふ四大公害病の一つが発生した都市が位置するのはどの都道府県ですか。正しいものを次のア～エから一つ選び、記号で答えなさい。

- ア 茨城県 イ 大分県 ウ 富山県 エ 三重県

問12 下線部⑫に関連して、日本の森林や林業について述べた文として正しくないものを次のア～エから一つ選び、記号で答えなさい。

- ア 国土面積に占める森林の面積割合（2018年）は、50%を下回っている。
- イ 天然林と人工林の森林面積（2017年）を比べると、天然林の面積の方が広い。
- ウ 1970年以降、日本で消費される木材は国産材よりも輸入材の方が多い。
- エ 植林してから一定の期間が経つと、一部の木を切り倒す間伐が行われる。

問13 下線部⑬に関連して、次の写真は、ある地域でかつてはよく見られた、自然災害から身を守るための建物です。



(1) この建物が見られた地域として正しいものを次のア～エから一つ選び、記号で答えなさい。

- ア 石狩平野 イ 奈良盆地
ウ 濃尾平野 エ 松本盆地

(2) この建物に関連する自然災害として正しいものを次のア～エから一つ選び、記号で答えなさい。

- ア 大雪 イ 干ばつ
ウ 洪水 エ 土砂崩れ

問14 空らん ⑭ にあてはまる、^{ねんしょうじ}燃焼時の温室効果ガスの^{はいしゅつりょう}排出量が化石燃料の中ではもっとも少ないと言われているエネルギー資源を答えなさい。

問15 下線部⑮に関連して、次の資料は、国立公園についての調べ学習をした3人の生徒の感想です。3人の生徒がそれぞれ調べた国立公園は、次ページの地図中のⅠ～Ⅲのいずれかに位置しています。3人の生徒がそれぞれ調べた国立公園とⅠ～Ⅲの組み合わせとして正しいものを次ページのア～カから一つ選び、記号で答えなさい。

生徒A

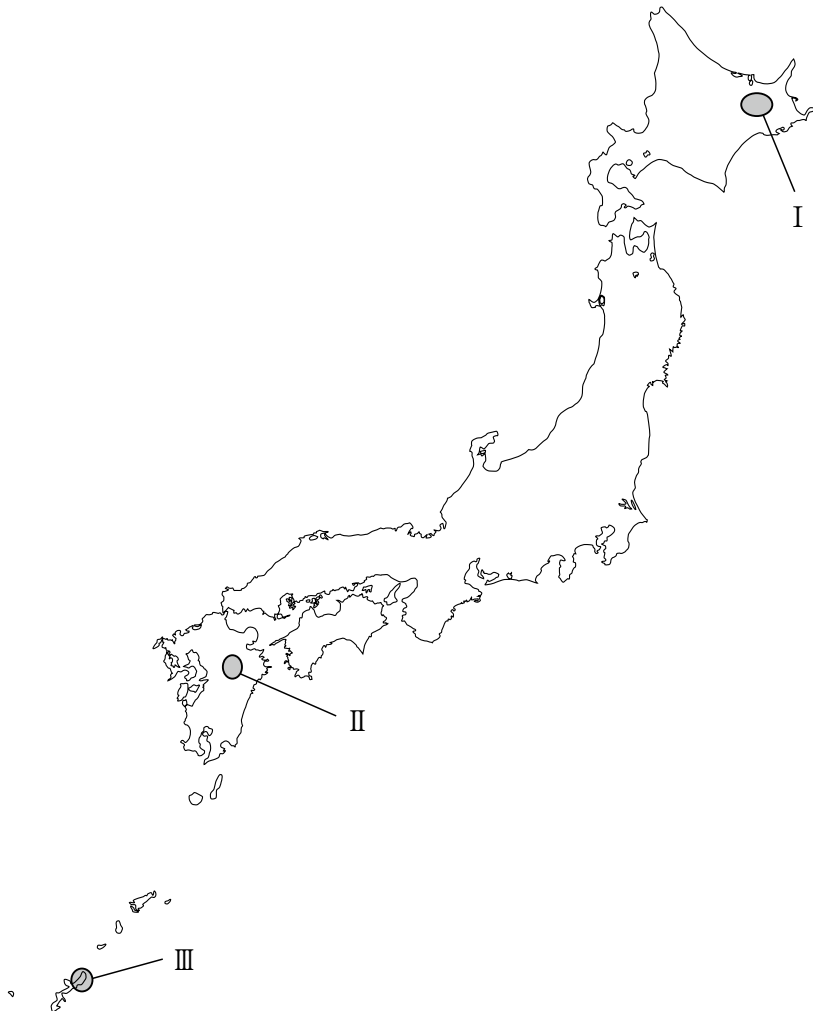
私が調べた国立公園には、スダジイなどの常緑広葉樹林が広がっています。
^{ぜつめつ}絶滅が心配されている「飛べない鳥」がいるそうなのでぜひ見てみたいです。
また、マングローブを見ながら湖でカヌーに乗る体験もしてみたいです。

生徒B

私が調べた国立公園には、複数の湖があります。例えば、湖岸に温泉が湧く湖があり、そこではオオハクチョウが^{えつとう}越冬するそうです。他に、^{とうめいど}透明度がとても高い湖やマリモが生息する湖もあるそうなので、実際に見てみたいです。

生徒C

私が調べた国立公園には、9万年前までの噴火によってできた、世界有数の大きさを誇るカルデラがあります。その中には、町や田畑もあれば、鉄道も通っているそうです。機会があれば、住んでいる人に話を聞いてみたいです。



	生徒A	生徒B	生徒C
ア	I	II	III
イ	I	III	II
ウ	II	I	III
エ	II	III	I
オ	III	I	II
カ	III	II	I

3

次の文章を読んで、後の問いに答えなさい。

①選挙で投票できる年齢は、現在は18歳以上となっています。従来、選挙権は20歳以上の国民が持っていました。2007年に成立した②憲法改正のための国民投票法で、投票権が18歳以上に認められたことから、選挙権も18歳に引き下げるべきだという議論が起きました。その結果、2015年に③国会で公職選挙法が改正されたのです。18歳までに選挙権が認められている国は191の国と地域のうち約9割となっています。ですから、引き下げは世界的な状況に合わせたものと言えるでしょう。

若者世代に投票権は広がりましたが、問題もあります。年齢別の投票率を見ると、10代、20代は60代以上の半分程度しかありません。政治家は票を入れてくれる人たちの意見を取り入れがちなので、この結果、高齢者の意見が反映されやすいシルバー・デモクラシーの傾向が生じています。

近年、高齢化によって日本の④歳出のうち、⑤社会保障に関する支出が増加しています。例えば、年金制度の財源は税金と、現役世代が納めた保険料が中心になっています。今後ますます少子高齢化が進む中で、若者は負担した額に対して、高齢者になったときに支給される額が減少していくことが予想されます。教育や子育て支援策など、若者世代への支出は他の先進国の水準と比べても低く、こうした分野での政策を強化していくためにも若者世代の投票が必要です。

若者に限らず、投票率が低く、選挙で投票する層が固定化してしまうと特定の人たちのための政治が行われやすい、という問題があります。特定の集団の利益を実現するために⑥政治活動を行う団体を圧力団体と言いますが、投票率が低いほど選挙の結果は圧力団体の組織票の影響を受けやすくなります。すると選挙に勝って権力を得た政治家は、次の選挙でも組織票を獲得するために、特定の団体のための政策を進める傾向が強くなります。政治家をはじめ公務員が公平な政治を行うために、憲法15条では「すべて公務員は、全体の ⑦ であって、一部の ⑦ ではない」と規定しており、特定の人たちのための政治ばかりが行われてはならないはずです。

また、投票率が低いと世襲議員が有利になりやすいという問題があります。世襲議員とは、一般的に親や祖父などの親族が政治家で、彼らの後援会組織などの支持基盤をそのまま継承して当選した政治家のことを指します。投票率が低いほど選挙の結果は組織票の影響を受けやすくなるため、世襲議員が有利になります。近年、衆議院議員の4人に1人、⑧内閣の閣僚の6割以上が世襲議員となったこともありました。これは、他の先進国の水準と比較しても高く、例えば⑨アメリカだと、国会議員の中での世襲議員の割合は1割以下だと言われています。世襲が必ずしも悪いわけではありませんが、大きな傾向としては新しい血が政治の世界に入らず、また、世襲議員は親族から引き継いだ支持基盤に配慮した政治を行うので、政策も固定されたものになり

やすいことが指摘されています。

「権利の上に眠る者は保護に値せず」という言葉があります。これは、権利というものは侵害される可能性が常にあり、自分で維持する努力をしなければならないという意味です。憲法97条には「この憲法が日本国民に保障する⑩基本的人権は、人類の多年にわたる自由獲得の努力の成果」とあり、憲法12条には「この憲法が国民に保障する自由及び権利は、国民の不断の努力によって、これを保持しなければならない」とあります。将来の世代に権利をつなぎ、世の中をより良くしていくために、若者世代が選挙権を行使することは不可欠であると言えるでしょう。

問1 下線部①について述べた文として正しいものを次のア～エから一つ選び、記号で答えなさい。

- ア 衆議院の選挙における小選挙区制では、それぞれの都道府県が一つの選挙区の単位となっている。
- イ 国政選挙では都市と地方で一票の格差が生じているが、これに対して裁判所が憲法違反の判決を下したことはない。
- ウ 選挙では、投票に参加したかどうかを確認するために投票用紙に自分の名前を記載することになっており、記載がない場合は無効となる。
- エ 衆議院の選挙では、候補者は小選挙区と比例代表区の重複立候補が可能のため、小選挙区で敗北した候補者が比例代表区で復活当選をすることがある。

問2 下線部②について述べた文として正しいものを次のア～エから一つ選び、記号で答えなさい。

- ア 大日本帝国憲法においても憲法改正の規定があり、憲法を改正する場合、帝国議会議が発議し、天皇が国民の名で公布すると定められていた。
- イ 現在の日本国憲法が制定される際に、手続き上は大日本帝国憲法を改正する形式がとられた。
- ウ 現在の日本では、国会における一般的な議事は各議院で出席議員の過半数の賛成で議決されるが、憲法改正は各議院の総議員の過半数の賛成で発議される。
- エ 国会の発議を受けて行う日本国憲法の改正を問う国民投票においては、有効投票の3分の2以上の賛成が必要であると規定されている。

問8 下線部⑧に関連して、内閣が衆議院と特定の争点について対立した場合、内閣は衆議院を解散することができます。このような場合において、衆議院を解散することの国民にとっての利点は何ですか。1行で説明しなさい。

問9 下線部⑨について、2001年9月11日の同時多発テロを受けて、同年にアメリカが軍事介入した先の国として正しいものを次のア～エから一つ選び、記号で答えなさい。

ア イラク イ 北朝鮮 ウ アフガニスタン エ キューバ

問10 下線部⑩について述べた文として正しくないものを次のア～エから一つ選び、記号で答えなさい。

ア プライバシーの権利が憲法に明記されているにも関わらず、プライバシーが守られていないことが問題になっている。

イ 働く意思と能力のある者が、働くことを保障される勤労の権利は、社会権に分類される。

ウ 主権者である国民が政治について正しい判断ができるように、国などが持っている情報の公開を求める権利が法律で保障されている。

エ 刑事裁判で起訴された人が無罪となった場合、国に抑留や拘禁などに対する補償を請求する権利がある。

問題は以上です

2022年度 入学試験解答用紙〔社会〕(35分)

第1回 2月1日実施 吉祥女子中学校

1

問1	問2	問3
問4		問5
問7	問8	
問10	問11	
問12		

問13	問14	
問15		
		計画

--

2

問1	問2	問3	
問4	問5	問6	
問7		問8	問9

問10	問11	問12
問13		問14
(1)	(2)	
問15		

--

3

問1	問2	問3	問4
問5	問6		
問7			
問8			
問9	問10		

--

受験番号	氏名	得点